

Универзитет у Нишу  
ГРАЂЕВИНСКО  
АРХИТЕКТОНСКИ  
ФАКУЛТЕТ



Студијски програм  
ИАС АРХИТЕКТУРА

**ПРИЈЕМНИ ИСПИТ 2023**

ТЕСТ ОПШТЕ КУЛТУРЕ И  
ОБРАЗОВАЊА,  
СА ЕЛЕМЕНТИМА ТЕСТА  
ПРОСТОРНЕ  
ИНТЕЛИГЕНЦИЈЕ

НИШ, 27. 06. 2023. године



**УПУТСТВО ЗА КАНДИДАТЕ  
О НАЧИНУ ПОЛАГАЊА ПРИЈЕМНОГ ИСПИТА**

- Кандидат који приступа полагању пријемног испита дужан је да код себе има важећу личну карту или важећи пасош.
- Кандидат је дужан да седне на одређено место, на које га упућује дежурни. Кандидат на своје место може да понесе само важећи документ за идентификацију, хемијску оловку плаве боје и флашицу воде.
- Кандидат мора, на захтев, показати важећу личну карту, односно пасош.
- По завршетку идентификације, лична карта, односно пасош остаје на столу до завршетка испита.
- Испит је писмени, у облику теста и траје 2 (два) сата.
- Свеску са питањима за израду теста кандидат добија од дежурног. Кандидат такође добија посебан **лист за одговоре** (у даљем тексту: **ЛО**). Све одговоре на питања кандидати дају искључиво у **ЛО** обрасцу!
- У **ЛО**-у се хемијском оловком плаве боје обележавају одговори прецртавањем одговарајућих поља. Начин обележавања тачних одговора приказан је на следећој слици!

лист за одговоре

Образац ЛО

А Б В Г Д					А Б В Г Д				
1	<input checked="" type="checkbox"/>	<input type="checkbox"/>	<input type="checkbox"/>	<input type="checkbox"/>	31	<input type="checkbox"/>	<input checked="" type="checkbox"/>	<input type="checkbox"/>	<input type="checkbox"/>
2	<input type="checkbox"/>	<input checked="" type="checkbox"/>	<input type="checkbox"/>	<input type="checkbox"/>	32	<input type="checkbox"/>	<input type="checkbox"/>	<input checked="" type="checkbox"/>	<input type="checkbox"/>
3	<input type="checkbox"/>	<input checked="" type="checkbox"/>	<input type="checkbox"/>	<input type="checkbox"/>	33	<input type="checkbox"/>	<input type="checkbox"/>	<input checked="" type="checkbox"/>	<input type="checkbox"/>
4	<input type="checkbox"/>	<input type="checkbox"/>	<input type="checkbox"/>	<input checked="" type="checkbox"/>	34	<input type="checkbox"/>	<input checked="" type="checkbox"/>	<input type="checkbox"/>	<input type="checkbox"/>
5	<input type="checkbox"/>	<input type="checkbox"/>	<input checked="" type="checkbox"/>	<input type="checkbox"/>	35	<input type="checkbox"/>	<input type="checkbox"/>	<input type="checkbox"/>	<input checked="" type="checkbox"/>
6	<input checked="" type="checkbox"/>	<input type="checkbox"/>	<input type="checkbox"/>	<input type="checkbox"/>	36	<input type="checkbox"/>	<input type="checkbox"/>	<input checked="" type="checkbox"/>	<input type="checkbox"/>
7	<input type="checkbox"/>	<input type="checkbox"/>	<input type="checkbox"/>	<input checked="" type="checkbox"/>	37	<input type="checkbox"/>	<input type="checkbox"/>	<input checked="" type="checkbox"/>	<input type="checkbox"/>
8	<input type="checkbox"/>	<input type="checkbox"/>	<input type="checkbox"/>	<input checked="" type="checkbox"/>	38	<input checked="" type="checkbox"/>	<input type="checkbox"/>	<input type="checkbox"/>	<input type="checkbox"/>
9	<input type="checkbox"/>	<input type="checkbox"/>	<input checked="" type="checkbox"/>	<input type="checkbox"/>	39	<input type="checkbox"/>	<input type="checkbox"/>	<input type="checkbox"/>	<input checked="" type="checkbox"/>
10	<input type="checkbox"/>	<input checked="" type="checkbox"/>	<input type="checkbox"/>	<input type="checkbox"/>	40	<input checked="" type="checkbox"/>	<input type="checkbox"/>	<input type="checkbox"/>	<input type="checkbox"/>

Слика 1. Део обрасца **ЛО**.

Правилно обележавање одговора прецртавањем одговарајућих поља:

\*вертикално – редни број питања;

\*хоризонтално – понуђени одговори.

- Кандидат прецртава поље само једног од понуђених одговора у ЛО-у, под бројем који одговара редном броју тог питања.
- Сваки тест има 60 питања и сваки тачан одговор се бодује са једним бодом.
- На пријемном испиту се може освојити максимално 60 бодова.
- Упозоравају се кандидати да **ЛО** образац попуњавају врло пажљиво.
- За свако питање понуђено је 5 (пет) одговора, од којих је само један тачан. Одговарајуће обележавање тачног одговора доноси један бод.
- Обележавање нетачног одговора, необележавање одговора, као и обележавање више одговора у оквиру истог питања доноси нула (0) бодова.
- На **ЛО**-у није дозвољено брисање или исправљање већ обележених одговора!
- Најстроже је забрањено потписивање или било какво друго обележавање **ЛО**-а. Кандидат који на било који начин додатно означи **ЛО**, биће дисквалификован.
- Од тренутка поделе тестова није дозвољен никакав разговор између кандидата. На испиту је строго забрањено коришћење било каквих додатних помагала (џепни рачунар, мобилни телефон, паметни сат, таблет, слушалице и друга информационо-комуникациона средства, лењир, цедуљице и сл.). У току полагања пријемног испита, кандидати не смеју имати код себе мобилне телефоне и паметне сатове.
- Дежурни не могу давати никакве информације о задацима. Није дозвољен разговор између кандидата и дежурног.
- Из коверте коју сте добили извадите цедуљу и на њој штампаним словима упишите: **презиме, име једног од родитеља (са пријаве), име и редни број пријаве.**
- **Предаје се само лист са одговорима и коверта са попуњеном цедуљом.**
- Приликом предаје листа са одговорима (образец **ЛО**) коверта мора бити затворена.

Пријемни испит почиње у 10.00 часова и траје до 12.00 часова.

Молимо Вас да се приликом полагања пријемног испита придржавате наведених упутстава. Непоштовање неког од наведених правила повлачи за собом дисквалификацију кандидата без обзира на претходно освојене поене!

**Свим кандидатима желимо много успеха на испиту!**

ТЕСТ ОПШТЕ КУЛТУРЕ И ОБРАЗОВАЊА,  
СА ЕЛЕМЕНТИМА ТЕСТА ПРОСТОРНЕ  
ИНТЕЛИГЕНЦИЈЕ  
2023

# ПИТАЊА



1. **Есперанто је?**
  - А врста тестенине
  - Б вештачки језик
  - В традиционална шпанска песма
  - Г модел аутомобила
  - Д градска четврт у Мадриду
2. **Меридијанима су линије које повезују све тачке исте:**
  - А надморске висине
  - Б географске ширине
  - В географске дужине
  - Г географске дубине
  - Д загађености ваздуха
3. **Сеоска насеља се другачије називају:**
  - А градска
  - Б рурална
  - В урбана
  - Г радничка
  - Д приградска
4. **Синоним за ортогонално је:**
  - А паралелно
  - Б управно
  - В унакрсно
  - Г укосо
  - Д независно
5. **Фреска „Бели анђеол“, део композиције „Мироносице на Христовом гробу“, налази се у:**
  - А манастиру Милешева
  - Б базилици Светог Петра у Ватикану
  - В манастиру Студеница
  - Г катедрали Нотр-Дам у Паризу
  - Д манастиру Раваница
6. **Шта је аниме?**
  - А реалистични приказ животиња у цртаним филмовима
  - Б врста акционих фигура
  - В назив популарног стрипа
  - Г стил цртања анимација пореклом из Јапана
  - Д жаргонски назив за јапанске хорор филмове
7. **Шта значи латинска пословица *Divide et impera*?**
  - А угодно са корисним
  - Б завади па владај
  - В на овом месту
  - Г отвори пут слободи
  - Д рука руку мије
8. **Microsoft је основао:**
  - А Стив Џобс
  - Б Стивен Хокинг
  - В Бил Гејтс
  - Г Илон Маск
  - Д Лери Пејџ
9. **Шта све одређује векторску величину?**
  - А брзина
  - Б интензитет
  - В интензитет и правац
  - Г интензитет, правац и смер
  - Д интензитет, правац, смер и нападна тачка

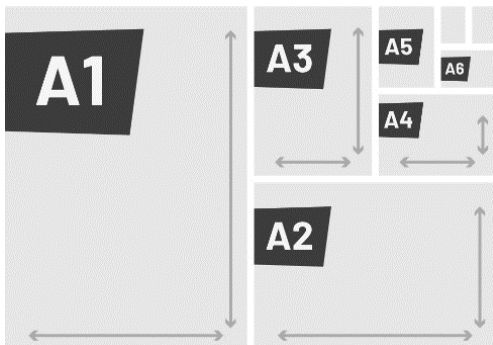
10. **Шта је дамаст?**  
А врста сабље  
Б врста тканине  
В дамска торбица  
Г терет који се додаје ради остваривања равнотеже  
Д врста папира
11. **Избаци уљеза:**  
А гранит  
Б мермер  
В кварцит  
Г глина  
Д кречњак
12. **Долина краљева у Египту, позната по гробницама фараона, налази се на западној обали Нила насупрот некадашњег града Теба. Како се данас зове овај град у коме се налази истоимени храм и поред кога се налази храм Карнак?**  
А Каиро  
Б Луксор  
В Абу Симбел  
Г Гиза  
Д Хургада
13. **Пиластер је?**  
А декоративни елемент налик стубу  
Б део олука  
В унутрашње двориште  
Г зид  
Д темељ
14. **Ротонда је тип грађевине изведен на:**  
А квадратној основи  
Б правоугаоној основи  
В кружној основи  
Г октагоналној основи  
Д хексагоналној основи
15. **Милански едикт је потписан:**  
А 1389. године  
Б 330. године ПНЕ  
В 313. године  
Г 1054. године  
Д 1945. године
16. **Како се назива језички модел базиран на технологији вештачке интелигенције, развијен од стране OpenAI тима, а који се користи за интеракцију с корисницима пружајући им подршку одговарањем на питања?**  
А SuperChat  
Б QuickBot  
В InfoGenius  
Г TalkMaster  
Д ChatGPT
17. **Душан Петричић, Саша Димитријевић и Предраг Кораксић Коракс су имена која везујемо за:**  
А ваљарство  
Б карикатуру  
В литографију  
Г мозаик  
Д књижевност



18. **Мишленова звездица је интернационални систем вредновања у којој области?**
- А** астрономија
  - Б** аутомобилске гуме
  - В** гастрономија
  - Г** ауто-карте
  - Д** новинарство
19. **Шта је аксонометрија?**
- А** техника сликања
  - Б** начин тродимензионалног приказивања предмета
  - В** геометријски облик
  - Г** линија која додирује ивицу круга
  - Д** архитектонски покрет
20. **Заједничко романима „Проклета авлија“ Иве Андрића и филму „Бекство из Шошенка“ Франка Дарабонта јесте тип објекта у којем се њихова радња доминантно одвија. Та локација је:**
- А** школа
  - Б** манастир
  - В** научна лабораторија
  - Г** затвор
  - Д** кафана
21. **Шта од наведеног није назив интернационалног хотелског брэнда?**
- А** Хајат
  - Б** Хилтон
  - В** Бакарди
  - Г** Шератон
  - Д** Фор Сизонс
22. **Фодо музика је традиционална музика које земље?**
- А** Француске
  - Б** Перуа
  - В** Мексика
  - Г** Грчке
  - Д** Португалије
23. **Која од наведених грађевина има стаклену куполу?**
- А** Пантеон у Риму
  - Б** Аја Софија у Истанбулу
  - В** Партенон у Атини
  - Г** Зграда Рајхстага у Берлину
  - Д** Базилика Светог Петра у Риму
24. **Једно од најпознатијих дела светског сликарства, фреска са свода Сикстинске капеле, коју је осликао Микеланђело по сцени из Књиге постања, на којој Бог покушава да додирне руку човеку назива се:**
- А** Ноина жртва
  - Б** Прича о Ноју
  - В** Стварање Адама
  - Г** Стварање Еве
  - Д** Тајна вечера

25. Град Лисабон подигнут је на истом броју брежуљака као и град Рим. Који је то број?

- А 3
- Б 8
- В 4
- Г 5
- Д 7



26. Величина папира формата А3 је:

- А 42/29,7 цм
- Б 70/50 цм
- В 29,7/21 цм
- Г 39/29 цм
- Д 13/10 инча




27. Коју значајну културну институцију представља лого приказан у прилогу, који на симболичан начин представља и форму зграде у којој се она налази?

- А Народно позориште у Нишу
- Б Музеј савремене уметности у Београду
- В Скупштину града Крагујевца
- Г Завод за урбанизам у Чачку
- Д Универзитет у Новом Саду



28. Како се зове средњевековни манастир тврђава приказан на слици, познат по „Ресавској школи“?

- А Раваница
- Б Манасија
- В Студеница
- Г Сопоћани
- Д Грачаница



29. На слици поред приказан је део ког Европског града?

- А Рим
- Б Атина
- В Париз
- Г Берлин
- Д Лондон



30. Филм и књига „Да Винчијев код“ садрже сцене које се одигравају у највећем музеју на свету. У ком граду се овај музеј налази?

- А Лондон
- Б Париз
- В Рим
- Г Мадрид
- Д Њујорк



31. Стефани Џерманота је право име ексцентричне звезде која има албуме „*The Fame*“ и „*Born this way*“, као и номинације за награду Оскар за улоге у филмовима „Звезда је рођена“ и „Кућа Гучијевих“. Који псеудоним користи ова певачица:

А Бјорк  
Б Рита Ора  
В Џенифер Лопез  
Г Лејди Гага  
Д Жанел Моне




32. У ком приморском граду у Хрватској, који се налази на УНЕСКО листи светске баштине и који је његово романско становништво називало још и Рагуза, су снимане неке од сцена из серије „Игра престола“?

А Осијек  
Б Ријека  
В Опатија  
Г Дубровник  
Д Загреб




33. „Гернику“, чувено ремек-дело инспирисано ратним трагедијама, насликао је један од родоначелника кубизма. О ком сликару се ради?

А Жорж Брак  
Б Жоан Миро  
В Пабло Пикасо  
Г Винсент Ван Гог  
Д Џексон Поллок



34. Филм Паола Сорентина „Велика лепота“ прати догађаје у животу писца и новинара по имену Џеп Гамбардела. У ком граду се одиграва овај филм?

А Милано  
Б Рим  
В Венеција  
Г Напуљ  
Д Фиренца



35. На слици је приказан град који многи називају Венецијом севера и који се до 1991. године звао Лењинград. О ком граду је реч?

А Москва  
Б Стаљинград  
В Волгоград  
Г Санкт Петербург  
Д Новосибирск




36. Контровечно дело „Девојчица са црвеним балоном“ продато је 2018. године након чега се активирао механизам који је уништио доњу половину слике. Уметник који стоји иза овог дела користи псеудоним:

А Тицијан  
Б Баскијат  
В Боно Вокс  
Г Бенкси  
Д Улај




37. Који чувени барокни трг је приказан на слици?

- А Трг Пополо у Риму
- Б Трг Светог Марка у Венецији
- В Трг Светог Петра у Ватикану
- Г Трг Навона у Риму
- Д Трг Конкорд у Паризу



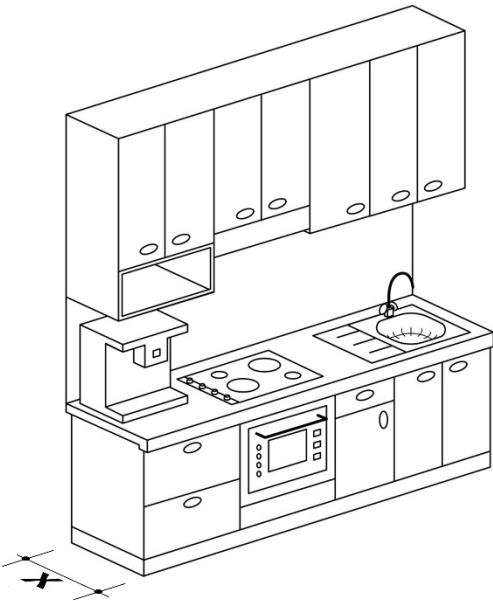
38. У грчкој митологији бог рата је био Арес, а у римској?

- А Икар
- Б Јупитер
- В Посејдон
- Г Марс
- Д Херакле



39. Омот албума „Turbulent Indigo“ канадске певачице Џони Мичел је омаж чувеној слици „Аутопортрет са завијеним увом“. Који холандски сликар је насликао ово дело?

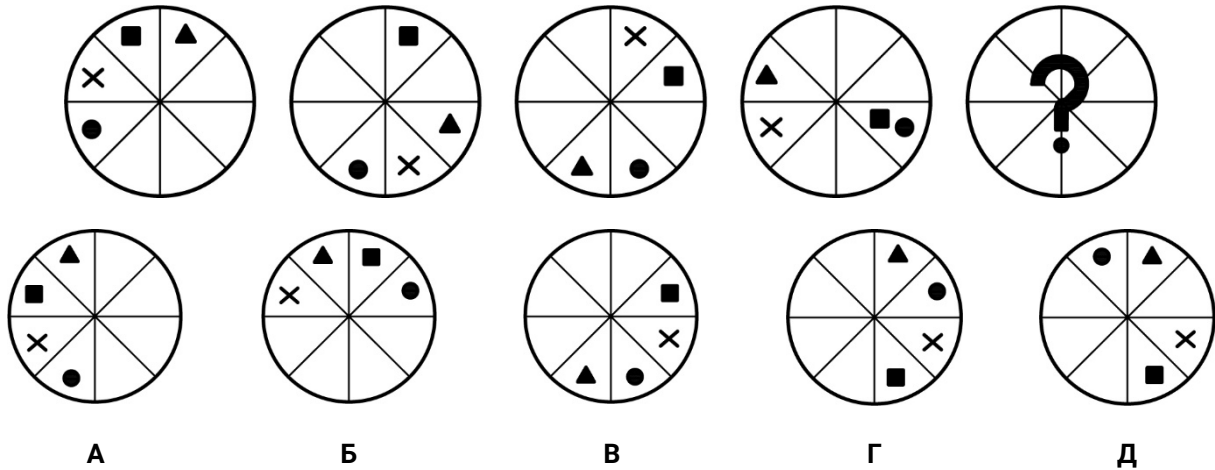
- А Рембрант Ван Рајн
- Б Јан Ван Ајк
- В Луј Ван Гал
- Г Винсент Ван Гог
- Д Бен Ван Беркел



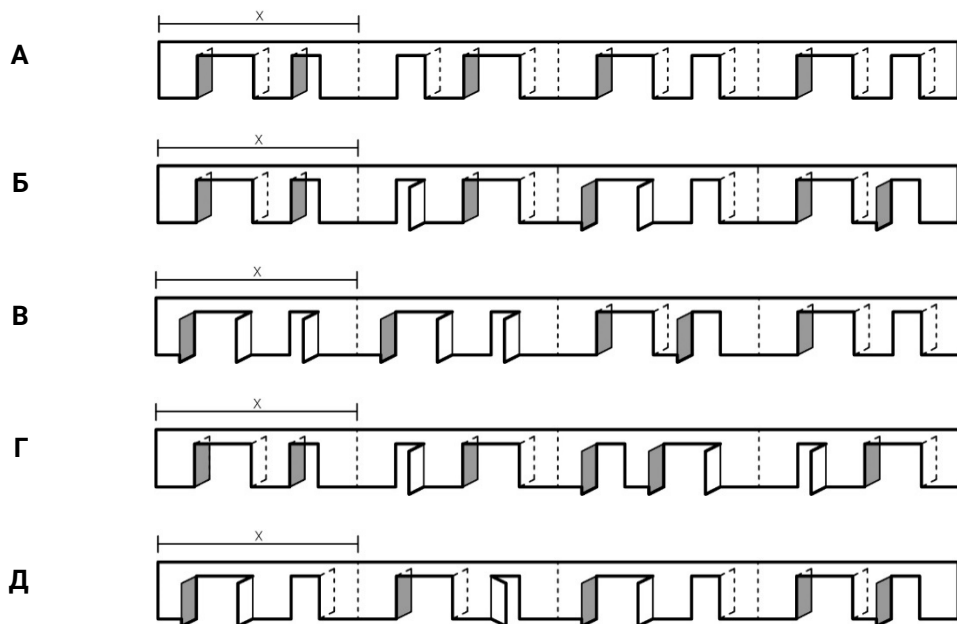
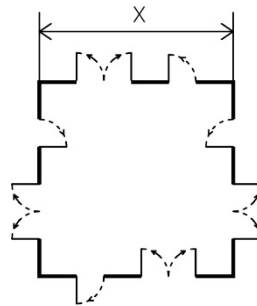
40. Стандардна дубина (X на цртежу у прилогу) подног кухињског елемента је:

- А 30cm
- Б 60cm
- В 90cm
- Г 100cm
- Д 120cm

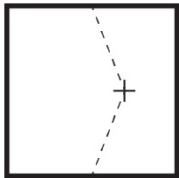

41. Који је следећи члан низа?



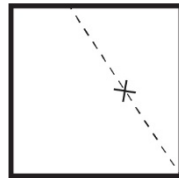
42. Двориште квадратне основе омеђено је зидовима. Сваки зид садржи два отвора са различитим вратима (једнокрилна заокретна, двокрилна заокретна). На основи су приказана максимално отворена врата са назначеним смеровима отварања (ка споља или ка унутра) који су обележени испрекиданом линијом и стрелицом. Одредити поглед на расклопљене зидове посматране из дворишта, полазећи притом од зида позиције 'X' у правцу казаљке на сату при расклапању.



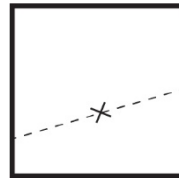
43. По којој шеми је савијен папир приказан на слици?



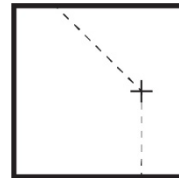
**A**



**Б**



**В**

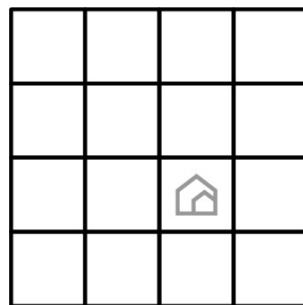


**Г**

Ниједна од  
понуђених

**Д**

44. Колико квадрата на слици садржи лого Грађевинско-архитектонског факултета?



16

**A**

10

**Б**

12

**В**


14

**Г**

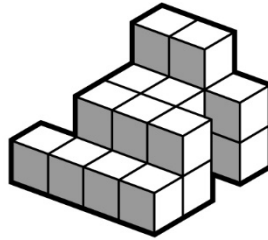
5

**Д**


45. Колико највише појединачних коцки је могло бити употребљено за слагање објекта чији су пројекција и аксонометријски прикази дати на слици?



поглед одозго



аксонометријски прикази



35

**A**

22

**B**

18

**B**

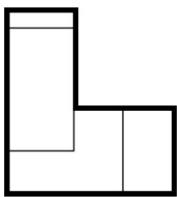
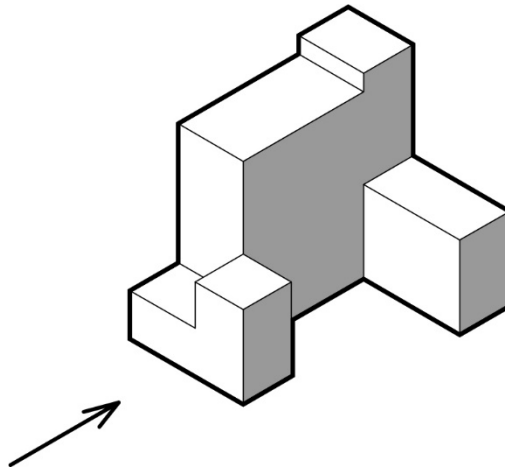
11

**Г**

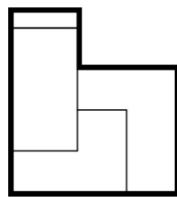
10

**Д**

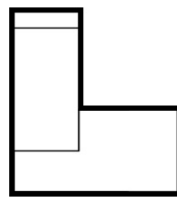
46. Који изглед (поглед означен стрелицама) одговара објекту приказаном у аксонометрији?



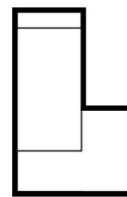
**A**



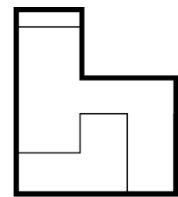
**B**



**B**

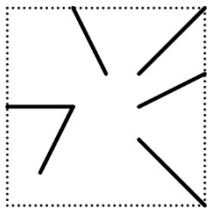
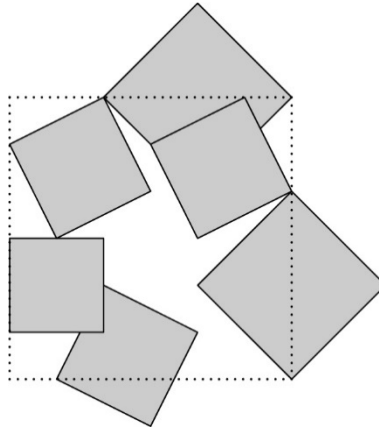


**Г**

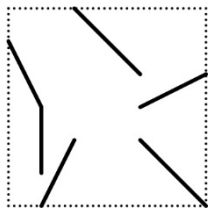


**Д**

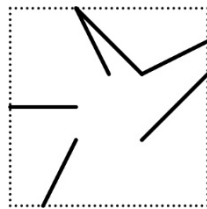
47. На слици је дат приказ шест квадратних панела оборених на хоризонталну раван. Међу понуђеним приказима препознати могућу позицију панела пре њиховог обарања.



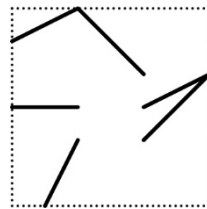
A



Б



В

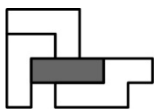
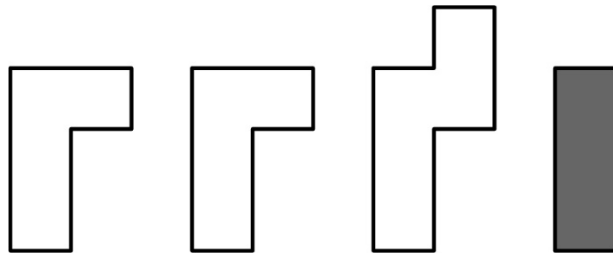


Г

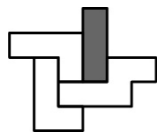
Ниједна од понуђених

Д

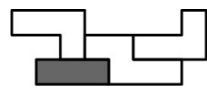
48. Која од понуђених фигура може настати транслацијом и ротацијом датих елемената у равни?



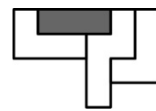
A



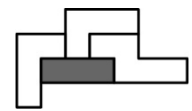
Б



В



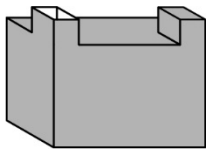
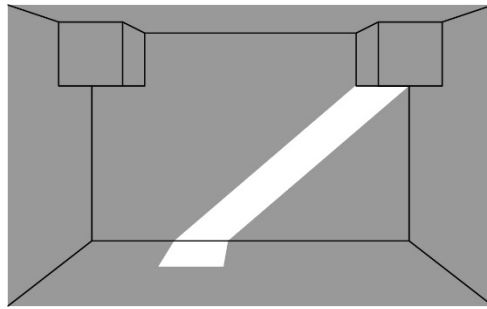
Г



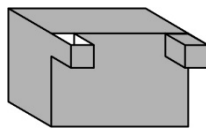
Д



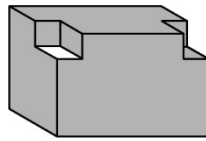
49. На слици је дат приказ унутрашњег простора са зениталним осветљењем и снопом светла које упада у њега. Препознати геометрију овог затвореног простора у понуђеним приказима.



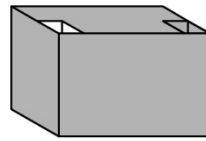
A



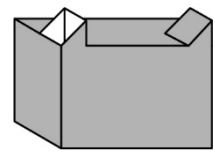
Б



В

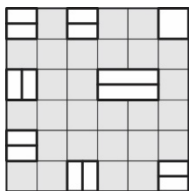
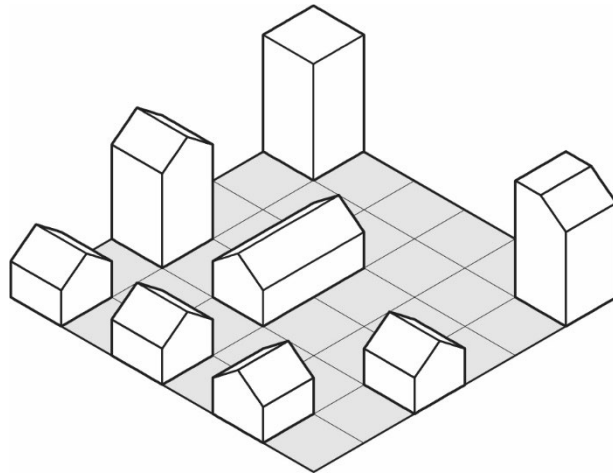


Г

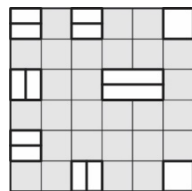


Д

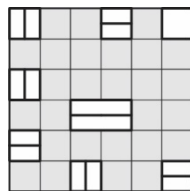
50. Која основа (поглед одозго) одговара објектима приказаним у аксонометрији?



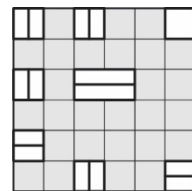
A



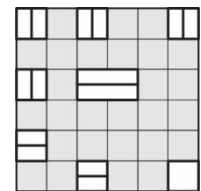
Б



В

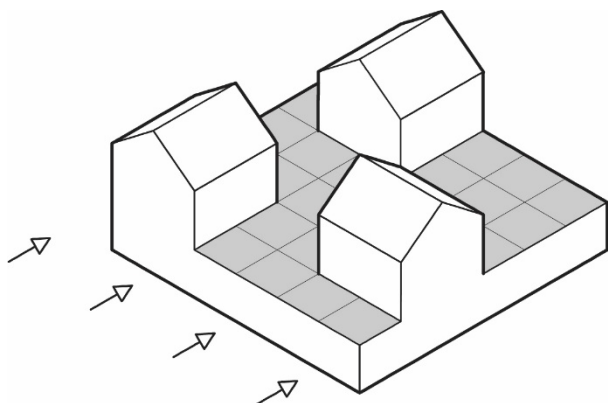


Г

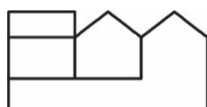


Д

51. Који изглед (поглед означен стрелицама) одговара објекту приказаном у аксонометрији?



А



Б



В

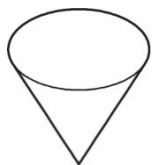
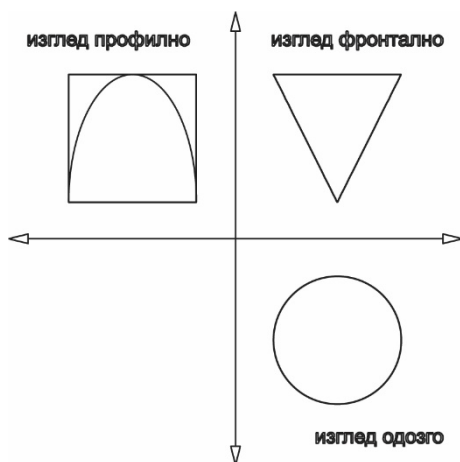


Г



Д

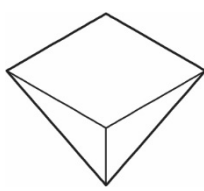
52. Ком понуђеном објекту у аксонометрији одговарају три приказане пројекције (изгледи одозго, фронтално и профилно)?



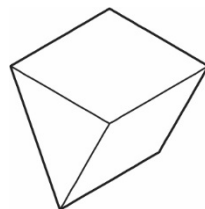
А



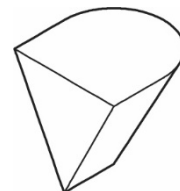
Б



В

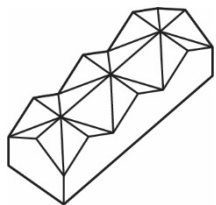
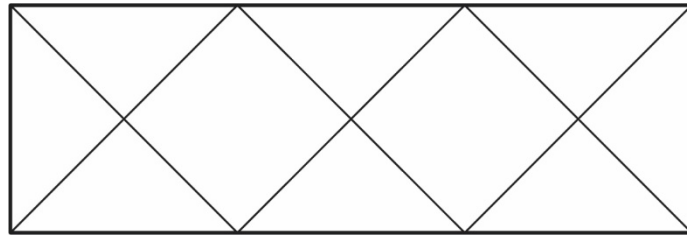


Г

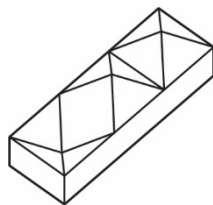


Д

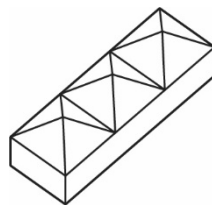
53. Који од објеката приказаних у аксонометрији одговара датој основи (погледу одозго)?



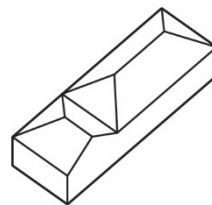
А



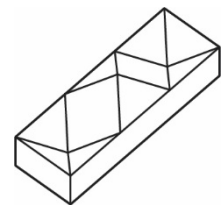
Б



В

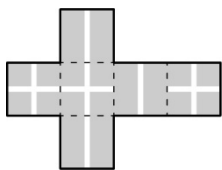
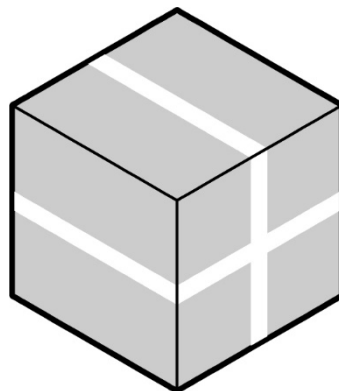


Г

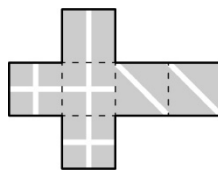


Д

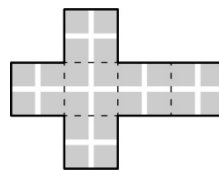
54. Која мрежа одговара коцки приказаној у аксонометрији?



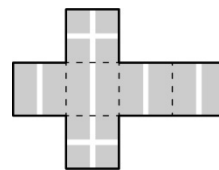
А



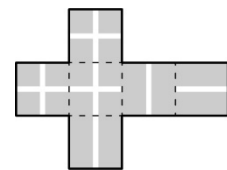
Б



В

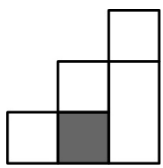
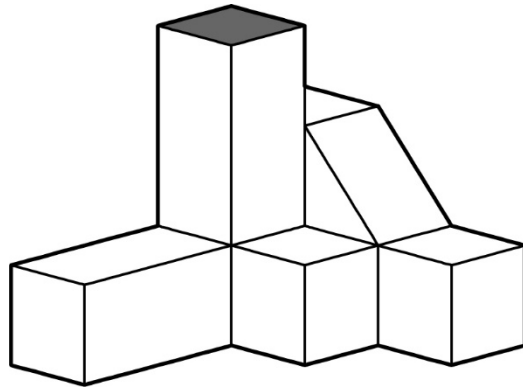


Г

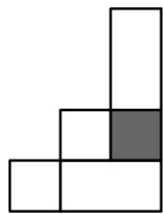


Д

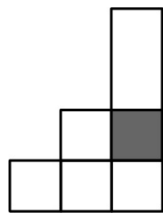
55. Који од приказаних цртежа представља основу (поглед одозго) објекта приказаног у аксонометрији?



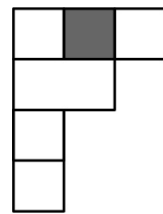
А



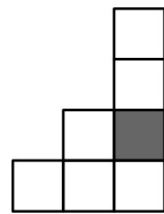
Б



В

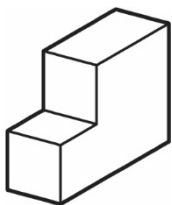
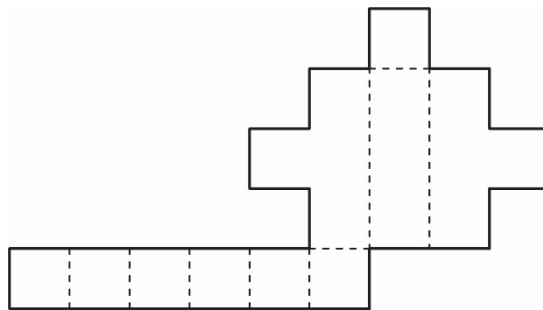


Г

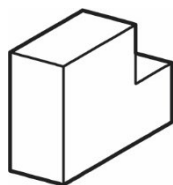


Д

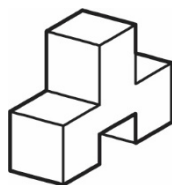
56. Којем од приказаних објеката у аксонометрији одговара дата мрежа?



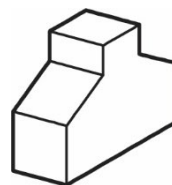
А



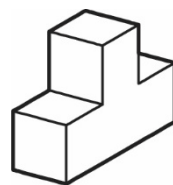
Б



В

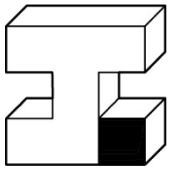
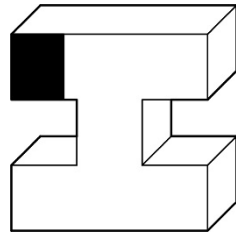


Г

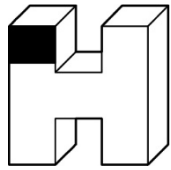


Д

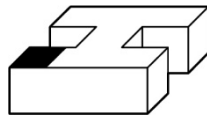
57. На слици горе је приказан објекат који има једно црно поље. Који је од објеката испод, приказаних у другачијим положајима, идентичан датом објекту?



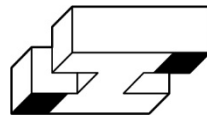
А



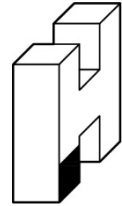
Б



В

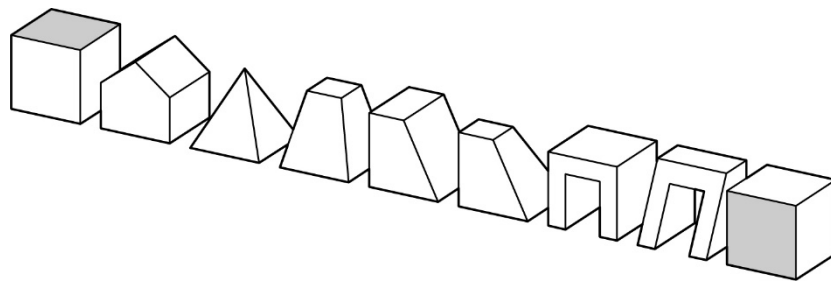


Г



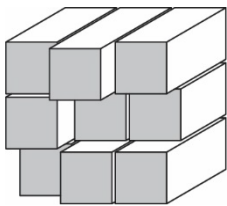
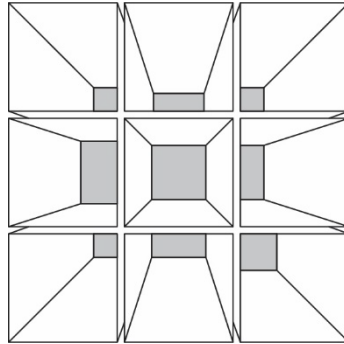
Д

58. Која основа (поглед одозго) одговара објектима приказаним у аксонометрији?

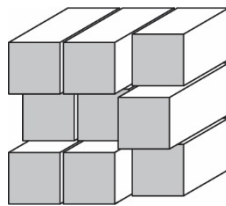


А									
Б									
В									
Г									
Д									

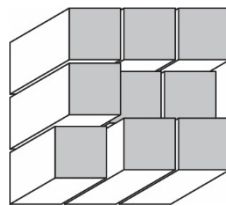
59. У перспективном приказу је дата композиција састављена од девет правоуглих призми којима недостаје предња страница. Призме су неједнаке дужине. Од понуђених композиција приказаних у косој пројекцији препознати која одговара задатој, гледано са задње стране.



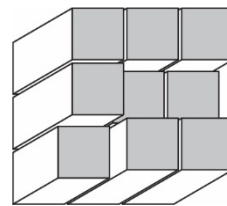
А



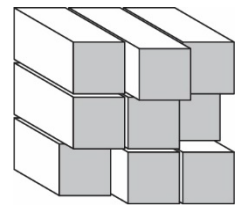
Б



В


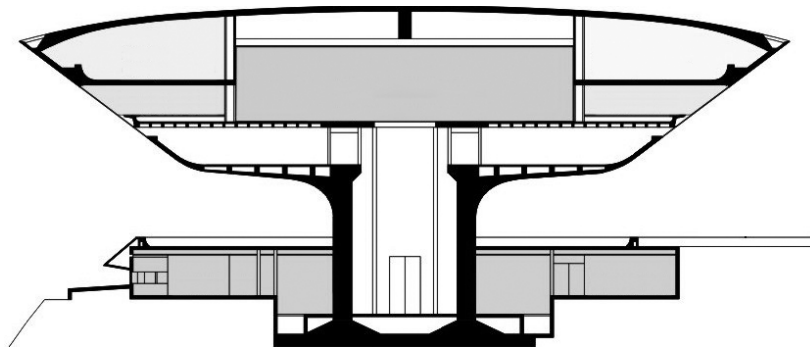


Г



Д

60. На слици испод је приказан вертикални пресек кроз зграду Музеја савремене уметности у бразилском граду Нитерој. Овај објекат је завршен 1996. године, а његов аутор је чувени архитекта Оскар Нимејер. Која од понуђених фотографија приказује овај музеј?



А



Б



В



Г



Д



ЛИСТ ЗА ОДГОВОРЕ

Образац ЛО

	А	Б	В	Г	Д		А	Б	В	Г	Д
1	<input type="checkbox"/>	<input checked="" type="checkbox"/>	<input type="checkbox"/>	<input type="checkbox"/>	<input type="checkbox"/>	31	<input type="checkbox"/>	<input type="checkbox"/>	<input type="checkbox"/>	<input checked="" type="checkbox"/>	<input type="checkbox"/>
2	<input type="checkbox"/>	<input type="checkbox"/>	<input checked="" type="checkbox"/>	<input type="checkbox"/>	<input type="checkbox"/>	32	<input type="checkbox"/>	<input type="checkbox"/>	<input type="checkbox"/>	<input checked="" type="checkbox"/>	<input type="checkbox"/>
3	<input type="checkbox"/>	<input checked="" type="checkbox"/>	<input type="checkbox"/>	<input type="checkbox"/>	<input type="checkbox"/>	33	<input type="checkbox"/>	<input type="checkbox"/>	<input checked="" type="checkbox"/>	<input type="checkbox"/>	<input type="checkbox"/>
4	<input type="checkbox"/>	<input checked="" type="checkbox"/>	<input type="checkbox"/>	<input type="checkbox"/>	<input type="checkbox"/>	34	<input type="checkbox"/>	<input checked="" type="checkbox"/>	<input type="checkbox"/>	<input type="checkbox"/>	<input type="checkbox"/>
5	<input checked="" type="checkbox"/>	<input type="checkbox"/>	<input type="checkbox"/>	<input type="checkbox"/>	<input type="checkbox"/>	35	<input type="checkbox"/>	<input type="checkbox"/>	<input type="checkbox"/>	<input checked="" type="checkbox"/>	<input type="checkbox"/>
6	<input type="checkbox"/>	<input type="checkbox"/>	<input type="checkbox"/>	<input checked="" type="checkbox"/>	<input type="checkbox"/>	36	<input type="checkbox"/>	<input type="checkbox"/>	<input type="checkbox"/>	<input checked="" type="checkbox"/>	<input type="checkbox"/>
7	<input type="checkbox"/>	<input checked="" type="checkbox"/>	<input type="checkbox"/>	<input type="checkbox"/>	<input type="checkbox"/>	37	<input type="checkbox"/>	<input type="checkbox"/>	<input checked="" type="checkbox"/>	<input type="checkbox"/>	<input type="checkbox"/>
8	<input type="checkbox"/>	<input type="checkbox"/>	<input checked="" type="checkbox"/>	<input type="checkbox"/>	<input type="checkbox"/>	38	<input type="checkbox"/>	<input type="checkbox"/>	<input type="checkbox"/>	<input checked="" type="checkbox"/>	<input type="checkbox"/>
9	<input type="checkbox"/>	<input type="checkbox"/>	<input type="checkbox"/>	<input checked="" type="checkbox"/>	<input type="checkbox"/>	39	<input type="checkbox"/>	<input type="checkbox"/>	<input type="checkbox"/>	<input checked="" type="checkbox"/>	<input type="checkbox"/>
10	<input type="checkbox"/>	<input checked="" type="checkbox"/>	<input type="checkbox"/>	<input type="checkbox"/>	<input type="checkbox"/>	40	<input type="checkbox"/>	<input checked="" type="checkbox"/>	<input type="checkbox"/>	<input type="checkbox"/>	<input type="checkbox"/>
11	<input type="checkbox"/>	<input type="checkbox"/>	<input type="checkbox"/>	<input checked="" type="checkbox"/>	<input type="checkbox"/>	41	<input type="checkbox"/>	<input type="checkbox"/>	<input type="checkbox"/>	<input checked="" type="checkbox"/>	<input type="checkbox"/>
12	<input type="checkbox"/>	<input checked="" type="checkbox"/>	<input type="checkbox"/>	<input type="checkbox"/>	<input type="checkbox"/>	42	<input type="checkbox"/>	<input checked="" type="checkbox"/>	<input type="checkbox"/>	<input type="checkbox"/>	<input type="checkbox"/>
13	<input checked="" type="checkbox"/>	<input type="checkbox"/>	<input type="checkbox"/>	<input type="checkbox"/>	<input type="checkbox"/>	43	<input type="checkbox"/>	<input type="checkbox"/>	<input checked="" type="checkbox"/>	<input type="checkbox"/>	<input type="checkbox"/>
14	<input type="checkbox"/>	<input type="checkbox"/>	<input checked="" type="checkbox"/>	<input type="checkbox"/>	<input type="checkbox"/>	44	<input type="checkbox"/>	<input checked="" type="checkbox"/>	<input type="checkbox"/>	<input type="checkbox"/>	<input type="checkbox"/>
15	<input type="checkbox"/>	<input type="checkbox"/>	<input checked="" type="checkbox"/>	<input type="checkbox"/>	<input type="checkbox"/>	45	<input type="checkbox"/>	<input checked="" type="checkbox"/>	<input type="checkbox"/>	<input type="checkbox"/>	<input type="checkbox"/>
16	<input type="checkbox"/>	<input type="checkbox"/>	<input type="checkbox"/>	<input type="checkbox"/>	<input checked="" type="checkbox"/>	46	<input checked="" type="checkbox"/>	<input type="checkbox"/>	<input type="checkbox"/>	<input type="checkbox"/>	<input type="checkbox"/>
17	<input type="checkbox"/>	<input checked="" type="checkbox"/>	<input type="checkbox"/>	<input type="checkbox"/>	<input type="checkbox"/>	47	<input type="checkbox"/>	<input type="checkbox"/>	<input type="checkbox"/>	<input checked="" type="checkbox"/>	<input type="checkbox"/>
18	<input type="checkbox"/>	<input type="checkbox"/>	<input checked="" type="checkbox"/>	<input type="checkbox"/>	<input type="checkbox"/>	48	<input type="checkbox"/>	<input type="checkbox"/>	<input type="checkbox"/>	<input checked="" type="checkbox"/>	<input type="checkbox"/>
19	<input type="checkbox"/>	<input checked="" type="checkbox"/>	<input type="checkbox"/>	<input type="checkbox"/>	<input type="checkbox"/>	49	<input type="checkbox"/>	<input type="checkbox"/>	<input checked="" type="checkbox"/>	<input type="checkbox"/>	<input type="checkbox"/>
20	<input type="checkbox"/>	<input type="checkbox"/>	<input type="checkbox"/>	<input checked="" type="checkbox"/>	<input type="checkbox"/>	50	<input type="checkbox"/>	<input type="checkbox"/>	<input type="checkbox"/>	<input checked="" type="checkbox"/>	<input type="checkbox"/>
21	<input type="checkbox"/>	<input type="checkbox"/>	<input checked="" type="checkbox"/>	<input type="checkbox"/>	<input type="checkbox"/>	51	<input checked="" type="checkbox"/>	<input type="checkbox"/>	<input type="checkbox"/>	<input type="checkbox"/>	<input type="checkbox"/>
22	<input type="checkbox"/>	<input type="checkbox"/>	<input type="checkbox"/>	<input type="checkbox"/>	<input checked="" type="checkbox"/>	52	<input type="checkbox"/>	<input checked="" type="checkbox"/>	<input type="checkbox"/>	<input type="checkbox"/>	<input type="checkbox"/>
23	<input type="checkbox"/>	<input type="checkbox"/>	<input type="checkbox"/>	<input checked="" type="checkbox"/>	<input type="checkbox"/>	53	<input type="checkbox"/>	<input type="checkbox"/>	<input type="checkbox"/>	<input type="checkbox"/>	<input checked="" type="checkbox"/>
24	<input type="checkbox"/>	<input type="checkbox"/>	<input checked="" type="checkbox"/>	<input type="checkbox"/>	<input type="checkbox"/>	54	<input type="checkbox"/>	<input type="checkbox"/>	<input type="checkbox"/>	<input checked="" type="checkbox"/>	<input type="checkbox"/>
25	<input type="checkbox"/>	<input type="checkbox"/>	<input type="checkbox"/>	<input type="checkbox"/>	<input checked="" type="checkbox"/>	55	<input type="checkbox"/>	<input type="checkbox"/>	<input checked="" type="checkbox"/>	<input type="checkbox"/>	<input type="checkbox"/>
26	<input checked="" type="checkbox"/>	<input type="checkbox"/>	<input type="checkbox"/>	<input type="checkbox"/>	<input type="checkbox"/>	56	<input type="checkbox"/>	<input type="checkbox"/>	<input type="checkbox"/>	<input type="checkbox"/>	<input checked="" type="checkbox"/>
27	<input type="checkbox"/>	<input checked="" type="checkbox"/>	<input type="checkbox"/>	<input type="checkbox"/>	<input type="checkbox"/>	57	<input type="checkbox"/>	<input type="checkbox"/>	<input type="checkbox"/>	<input type="checkbox"/>	<input checked="" type="checkbox"/>
28	<input type="checkbox"/>	<input checked="" type="checkbox"/>	<input type="checkbox"/>	<input type="checkbox"/>	<input type="checkbox"/>	58	<input type="checkbox"/>	<input checked="" type="checkbox"/>	<input type="checkbox"/>	<input type="checkbox"/>	<input type="checkbox"/>
29	<input type="checkbox"/>	<input type="checkbox"/>	<input checked="" type="checkbox"/>	<input type="checkbox"/>	<input type="checkbox"/>	59	<input type="checkbox"/>	<input type="checkbox"/>	<input type="checkbox"/>	<input type="checkbox"/>	<input checked="" type="checkbox"/>
30	<input type="checkbox"/>	<input checked="" type="checkbox"/>	<input type="checkbox"/>	<input type="checkbox"/>	<input type="checkbox"/>	60	<input type="checkbox"/>	<input type="checkbox"/>	<input checked="" type="checkbox"/>	<input type="checkbox"/>	<input type="checkbox"/>