

Универзитет у Нишу  
ГРАЂЕВИНСКО  
АРХИТЕКТОНСКИ  
ФАКУЛТЕТ



Студијски програм  
ИАС АРХИТЕКТУРА

**ПРИЈЕМНИ ИСПИТ 2022**

ТЕСТ ОПШТЕ КУЛТУРЕ И  
ОБРАЗОВАЊА,  
СА ЕЛЕМЕНТИМА ТЕСТА  
ПРОСТОРНЕ  
ИНТЕЛИГЕНЦИЈЕ

**НИШ, 28. 06. 2022. године**



**УПУТСТВО ЗА КАНДИДАТЕ  
О НАЧИНУ ПОЛАГАЊА ПРИЈЕМНОГ ИСПИТА**

- Кандидат који приступа полагању пријемног испита дужан је да код себе има важећу личну карту или важећи пасош. Кандидати који приступају полагању испита са пасошем, дужни су да додатно имају и други документ, у коме ће се налазити јединствени матични број грађана (ЈМБГ).
- Кандидат је дужан да седне на одређено место, на које га упућује дежурни. Кандидат на своје место може да понесе само важећи документ за идентификацију, хемијску оловку плаве боје и флашицу воде.
- Кандидат мора, на захтев, показати важећу личну карту, односно пасош.
- По завршетку идентификације, лична карта, односно пасош остаје на столу до завршетка испита.
- Испит је писмени, у облику теста и траје 2 (два) сата.
- Свеску са питањима за израду теста кандидат добија од дежурног. Кандидат такође добија посебан **лист за одговоре** (у даљем тексту: **ЛО**). Све одговоре на питања кандидати дају искључиво у **ЛО** обрасцу!
- У **ЛО**-у се хемијском оловком плаве боје обележавају одговори прецртавањем одговарајућих поља. Начин обележавања тачних одговора приказан је на следећој слици!

лист за одговоре

Образац ЛО

	А	Б	В	Г	Д		А	Б	В	Г	Д
1	<input checked="" type="checkbox"/>	<input type="checkbox"/>	<input type="checkbox"/>	<input type="checkbox"/>	<input type="checkbox"/>	31	<input type="checkbox"/>	<input checked="" type="checkbox"/>	<input type="checkbox"/>	<input type="checkbox"/>	<input type="checkbox"/>
2	<input type="checkbox"/>	<input checked="" type="checkbox"/>	<input type="checkbox"/>	<input type="checkbox"/>	<input type="checkbox"/>	32	<input type="checkbox"/>	<input type="checkbox"/>	<input checked="" type="checkbox"/>	<input type="checkbox"/>	<input type="checkbox"/>
3	<input type="checkbox"/>	<input checked="" type="checkbox"/>	<input type="checkbox"/>	<input type="checkbox"/>	<input type="checkbox"/>	33	<input type="checkbox"/>	<input type="checkbox"/>	<input checked="" type="checkbox"/>	<input type="checkbox"/>	<input type="checkbox"/>
4	<input type="checkbox"/>	<input type="checkbox"/>	<input type="checkbox"/>	<input type="checkbox"/>	<input checked="" type="checkbox"/>	34	<input type="checkbox"/>	<input checked="" type="checkbox"/>	<input type="checkbox"/>	<input type="checkbox"/>	<input type="checkbox"/>
5	<input type="checkbox"/>	<input type="checkbox"/>	<input checked="" type="checkbox"/>	<input type="checkbox"/>	<input type="checkbox"/>	35	<input type="checkbox"/>	<input type="checkbox"/>	<input type="checkbox"/>	<input type="checkbox"/>	<input checked="" type="checkbox"/>
6	<input checked="" type="checkbox"/>	<input type="checkbox"/>	<input type="checkbox"/>	<input type="checkbox"/>	<input type="checkbox"/>	36	<input type="checkbox"/>	<input type="checkbox"/>	<input type="checkbox"/>	<input checked="" type="checkbox"/>	<input type="checkbox"/>
7	<input type="checkbox"/>	<input type="checkbox"/>	<input type="checkbox"/>	<input checked="" type="checkbox"/>	<input type="checkbox"/>	37	<input type="checkbox"/>	<input type="checkbox"/>	<input type="checkbox"/>	<input checked="" type="checkbox"/>	<input type="checkbox"/>
8	<input type="checkbox"/>	<input type="checkbox"/>	<input type="checkbox"/>	<input checked="" type="checkbox"/>	<input type="checkbox"/>	38	<input checked="" type="checkbox"/>	<input type="checkbox"/>	<input type="checkbox"/>	<input type="checkbox"/>	<input type="checkbox"/>
9	<input type="checkbox"/>	<input type="checkbox"/>	<input checked="" type="checkbox"/>	<input type="checkbox"/>	<input type="checkbox"/>	39	<input type="checkbox"/>	<input type="checkbox"/>	<input type="checkbox"/>	<input type="checkbox"/>	<input checked="" type="checkbox"/>
10	<input type="checkbox"/>	<input checked="" type="checkbox"/>	<input type="checkbox"/>	<input type="checkbox"/>	<input type="checkbox"/>	40	<input checked="" type="checkbox"/>	<input type="checkbox"/>	<input type="checkbox"/>	<input type="checkbox"/>	<input type="checkbox"/>

Слика 1. Део обрасца **ЛО**.

Правилно обележавање одговора прецртавањем одговарајућих поља:

\*вертикално – редни број питања;

\*хоризонтално – понуђени одговори.

- Кандидат прецртава поље само једног од понуђених одговора у ЛО-у, под бројем који одговара редном броју тог питања.
- Сваки тест има 60 питања и сваки тачан одговор се бодује са једним бодом.
- На пријемном испиту се може освојити максимално 60 бодова.
- Упозоравају се кандидати да **ЛО** образац попуњавају врло пажљиво.
- За свако питање понуђено је 5 (пет) одговора, од којих је само један тачан. Одговарајуће обележавање тачног одговора доноси један бод.
- Обележавање нетачног одговора, не обележавање одговора, као и обележавање више одговора у оквиру истог питања доноси нула (0) бодова.
- На **ЛО**-у није дозвољено брисање или исправљање већ обележених одговора!
- Најстрожије је забрањено потписивање или било какво друго обележавање **ЛО**-а. Кандидат који на било који начин додатно означи **ЛО**, биће дисквалификован.
- Од тренутка поделе тестова није дозвољен никакав разговор између кандидата. На испиту је строго забрањено коришћење било каквих додатних помагала (џепни рачунар, мобилни телефон, паметни сат, таблет, слушалице и друга информационо - комуникациона средства, лењир, цедуљице и сл.). У току полагања пријемног испита, кандидати не смеју имати код себе мобилне телефоне и паметне сатове.
- Дежурни не могу давати никакве информације о задацима. Није дозвољен разговор између кандидата и дежурног.
- Из коверте коју сте добили извадите цедуљу и на њој штампаним словима упишите: **презиме, име једног од родитеља (са пријаве), име и редни број пријаве.**
- **Предаје се само лист са одговорима и коверта са попуњеном цедуљом.**
- Приликом предаје листа са одговорима (образак **ЛО**) коверта мора бити затворена.

Пријемни испит почиње у 10.00 часова и траје до 12.00 часова.

Молимо Вас да се приликом полагања пријемног испита придржавате наведених упутстава. Непоштовање неког од наведених правила повлачи за собом дисквалификацију кандидата без обзира на претходно освојене поене!

**Свим кандидатима желимо много успеха на испиту!**

ТЕСТ ОПШТЕ КУЛТУРЕ И ОБРАЗОВАЊА,  
СА ЕЛЕМЕНТИМА ТЕСТА ПРОСТОРНЕ  
ИНТЕЛИГЕНЦИЈЕ  
2022

# ПИТАЊА



1. **Ауто-кед је**
  - А математичка теорија
  - Б рачунарски програм
  - В систем за пренос интернет порука
  - Г област машинства
  - Д дигитална база
  
2. **Пергола има функцију**
  - А вентилације
  - Б носача
  - В засене
  - Г осветљења
  - Д конструктивног елемента
  
3. **Ескалатори су**
  - А покретна степеништа
  - Б надземни пролази
  - В лифтовске конструкције
  - Г рампе
  - Д просторна проширења
  
4. **Континент са ког долази архитекта Френсис Кере, лауреат Прицкерове награде 2022. године је**
  - А Европа
  - Б Азија
  - В Северна Америка
  - Г Аустралија
  - Д Африка
  
5. **Модулор је**
  - А познати архитекта
  - Б познати графички дизајнер
  - В систем мера
  - Г алат у грађевинарству
  - Д објекат у Паризу
  
6. **Контекст је**
  - А право првенства
  - Б грађевински законик
  - В грађевинска узанса
  - Г окружење
  - Д архитектонски концепт
  
7. **Висина радног стола најчешће је**
  - А 60 cm
  - Б 75 cm
  - В 85 cm
  - Г 110 cm
  - Д 120 cm

8. **Један хектар има величину од**  
А 2,54 ари  
Б 100 m<sup>2</sup>  
В 10000 m<sup>2</sup>  
Г 10 ари  
Д 0,5 km<sup>2</sup>
9. **Стандардно паркинг место је димензија**  
А 2,5 са 5 m  
Б 2,1 са 4,5 m  
В 3,2 са 6,1 m  
Г 3 са 5,5 m  
Д 2,5 са 4,5 m
10. **Гениус лоци на латинском означава**  
А прави пут  
Б главног архитекту  
В добро место  
Г висок објекат  
Д дух места
11. **Изведене или секундарне боје су**  
А плава, наранџаста и зелена  
Б зелена, наранџаста и љубичаста  
В светло зелена, жута и тамно наранџаста  
Г жута, црвена и париско плава  
Д црвена, жута и плава
12. **На којој страни света се по правилу налази олтар у православним црквама?**  
А На западу  
Б На истоку  
В На југу  
Г На северу  
Д Нема правила
13. **Према тренутно важећим правним актима Народна скупштина Републике Србије има**  
А 100 народних посланика  
Б 150 народних посланика  
В 200 народних посланика  
Г 250 народних посланика  
Д 199 народних посланика
14. **Која се боја/боје, осим беле, налазе на застави Канаде?**  
А плава  
Б црвена  
В зелена  
Г плава и црвена  
Д црвена и црна



15. **Лого Гугла, латинично слово Г, састоји се од четири боје. Од врха слова Г крећући се у смеру супротно од казаљке на сату то су редом:**
- А плава зелена жута наранџаста
  - Б зелена жута црвена плава
  - В жута црвена плава љубичаста
  - Г црвена жута зелена плава
  - Д плава црвена жута бела
16. **Црни талас је**
- А покрет на југословенској културној сцени
  - Б жанр страве и ужаса
  - В назив групе уметника из Француске
  - Г стил у класичној музици
  - Д сликарски правац с почетка 19. века
17. **Фибоначијев низ може се представити следећим низом бројева**
- А 1, 2, 4, 16, 256, 65 536, ...
  - Б 1, 2, 4, 8, 16, 24, 48, ...
  - В 1, 5, 11, 55, 111, 555, ...
  - Г 1, 10, 100, 10 000, 1 000 000, ...
  - Д 0, 1, 1, 2, 3, 5, 8, 13, 21, ...
18. **Величине а и б ( $a > b > 0$ ) су у златном односу, ако је**
- А  $a:b = b : (a + b)$
  - Б  $a:b = (a + b) : a$
  - В  $a:b = (a + b) : (a - b)$
  - Г  $a:b = (a - b) : b$
  - Д  $a:b = b : (a - b)$
19. **Наставити низ: Ј, Д, Т, Ч, П...**
- А Д, Т, Ч, П, П
  - Б Ч, Т, Д, П, Д
  - В Ш, С, О, Д, Д
  - Г Ш, П, Ч, Д, Т
  - Д Није могуће
20. **Ако су две силе истог правца а различитог смера, њихова резултанта је једнака**
- А збиру њихових вредности
  - Б разлици њихових вредности
  - В производу њихових вредности
  - Г количнику њихових вредности
  - Д и разлици и количнику њихових вредности
21. **Према званичној истрази, Ли Харви Освалд је 23. новембра 1963. године у Даласу извршио атентат на ког америчког председника?**
- А Роберта Кенедија
  - Б Ричарда Никсона
  - В Роналда Регана
  - Г Абрахама Линколна
  - Д Џона Фицџералд Кенедија

22. Који познати музичар је имао алтер его „Ziggy Stardust“, надимак „Thin White Duke“, сарађивао са групом „Queen“, на филму је тумачио „човека који је пао на Земљу“, Ендија Ворхола и Николу Теслу, а врхунац каријере достигао трилогијом албума насталих у Берлину?
- А Мик Џегер
  - Б Брајан Фери
  - В Елтон Џон
  - Г Дејвид Боуви
  - Д Џорџ Мајкл
23. Заједничко романима „Беснило“ Борислава Пекића и филму „Терминал“ Стивена Спилберга јесте локација на којој се њихова радња одвија. Та локација је:
- А болница
  - Б аеродром
  - В научна лабораторија
  - Г тржни центар
  - Д хотел
24. „Са пашњака до научењака“ наслов је књиге награђене Пулицеровом наградом у категорији најбоље биографије или аутобиографије. О животу којег научника рођеног у војвођанском месту Идвор ово дело говори?
- А Николе Тесле
  - Б Јосифа Панчића
  - В Михајла Пупина
  - Г Милутина Миланковића
  - Д Јована Цвијића
25. Који југословенски филм у свом пуном наслову садржи одредницу „до 785 сст“, главну музичку нумеру коју је отпевао Дадо Топић, и ликове са надимцима Жилијен, Папи и Буњуел?
- А Београдски фантом
  - Б Хало такси
  - В Национална класа
  - Г Вариола Вера
  - Д Краљевски воз



26. Назив Рембрантовог дела са слике је
- А Завера Клаудиса Цивилиса
  - Б Трговци
  - В Повратак блудног сина
  - Г Ноћна стража
  - Д Олуја на Галилејском мору



27. „Нема времена за умирање“ назив је 25. по реду филма из серијала о британском агенту Џејмсу Бонду, а истоимену нумеру која прати филм написала је и извела певачица која је у тренутку снимања имала свега 18 година. О којој музичкој звезди је реч?
- А Адел
  - Б Селена Гомез
  - В Аријана Гранде
  - Г Мајли Сајрус
  - Д Били Ајлиш



28. Археолошки локалитет са слике је
- А Лепенски вир
  - Б Медијана
  - В Винча
  - Г Виминацијум
  - Д Гамзиград



29. На слици је манастир
- А Ђурђеви ступови
  - Б Сопоћани
  - В Манасија
  - Г Дечани
  - Д Грачаница



30. Ко потписује дизајн фотеље са слике?
- А Нико Краљ
  - Б Чарлс и Реј Имс
  - В Мис ван дер Роје
  - Г Ле Корбизје
  - Д Арне Јакобсен



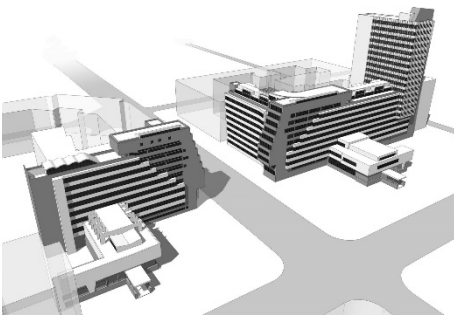
31. На фотографији је немачки модни креатор који је поред свог личног брэнда, као креативни директор водио модне куће „Шанел“ и „Фенди“. Како гласи његово име?

- А Филип Плајн
- Б Келвин Клајн
- В Томи Хилфигер
- Г Карл Лагерфелд
- Д Леви Штраус




32. Слика „Импресија, рађање Сунца“ по којој је читав правац добио име је једно од најпознатијих дела родоначелника импресионизма. Име овог француског сликара је

- А Албер Ками
- Б Винсент ван Гог
- В Теодор Жерико
- Г Пол Сезан
- Д Клод Моне



33. Зграда Генералштаба у Београду представља једино изведено дело у Србији ког значајног представника југословенског модерног покрета у архитектури?

- А Николе Добровића
- Б Богдана Богдановића
- В Александара Медведева
- Г Михајла Митровића
- Д Александра Дерока



34. На који објекат се односи модел приказан на слици?

- А Дизнијеву концертну дворану у Лос Анђелесу
- Б Опери у Валенсији
- В Сиднејску оперу
- Г Национални конгрес у Бразилији
- Д Музеј ваздухопловства у Београду



35. Која светски позната модна кућа је креирала и производила униформе које је носила немачка војска током II светског рата

- А Том Форд
- Б Хуго Бос
- В Кристобал Баленсијага
- Г Кристијан Диор
- Д Ђани Версаче



36. На омоту албума „Viva la Vida“ британског бенда Колдплеј нашло се чувено ремек дело романтизма, слика француског сликара Ежена Делакрое. Назив ове слике је:
- А Сплав Медуза
  - Б Слобода предводи народ
  - В Сарданапалова смрт
  - Г Дантеова барка
  - Д Трећи мај 1808.



37. Мини-серија „Мала бубњарка“ по роману Џона Ле Кареа прати групу израелских шпијуна на задатку који се одиграва по целом европском континенту. У ком граду се дешава кадар са слике?
- А Атина
  - Б Истанбул
  - В Мадрид
  - Г Солун
  - Д Париз



38. Филм Александра Сокурова „Руска барка“ је историјска драма у потпуности снимљена из једног непрекинутог кадра у чувеном Зимском дворцу у Санкт Патерсбургу. Део ког музеја представља ова зграда?
- А Ермитаж
  - Б Гугенхајм
  - В Лувр
  - Г МОМА
  - Д Прадо



39. На слици је приказан део мапе ког града?
- А Лондона
  - Б Њујорка
  - В Париза
  - Г Новог Сада
  - Д Копенхагена

40. Који логотип познатог бренда је исправно презентован?

А

*Coca-Cola*<sup>®</sup>

Б

*Coca-Cola*<sup>®</sup>

В

*Coca-Cola*<sup>®</sup>

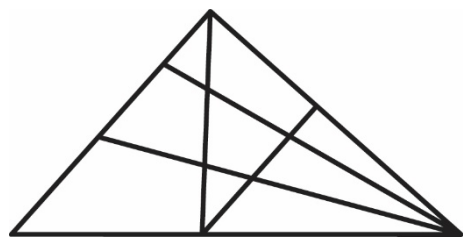
Г

*Coca-Cola*<sup>®</sup>

Д


Ниједан од понуђених

41. Колико троуглова постоји на приказаној слици?

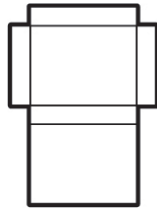


- А 18
- Б 21
- В 23
- Г 24
- Д 25

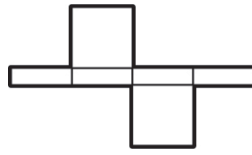
42. Склапањем које од датих мрежа није могуће добити квадрат?



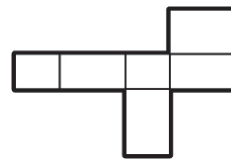
А



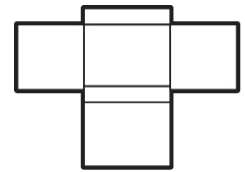
Б



В

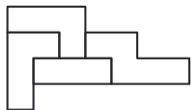


Г

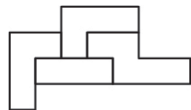


Д

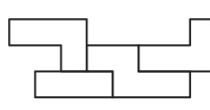
43. Која од понуђених фигура може настати транслацијом и ротацијом датих елемената у равни?



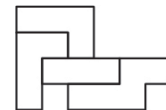
А



Б



В


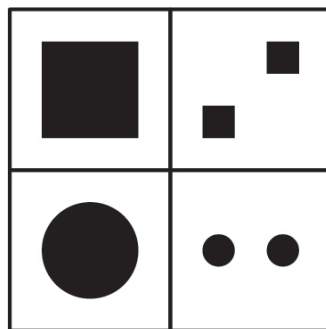


Г

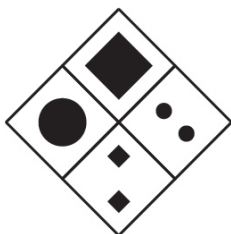
Ниједна од понуђених

Д


44. Која од ротираних композиција одговара приказаној?




А



Б



В



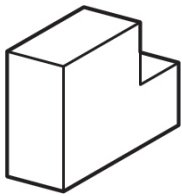
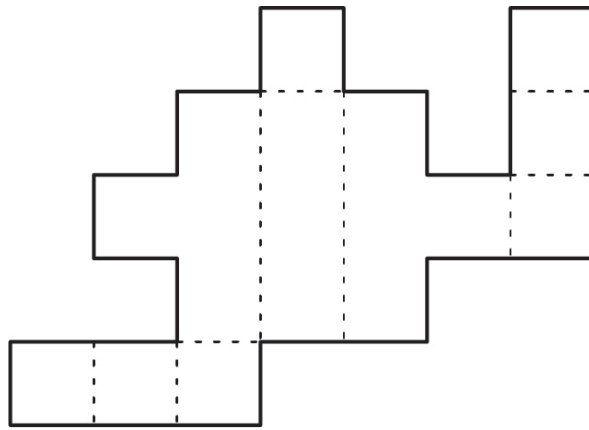
Г

Ниједна од понуђених

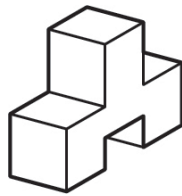
Д



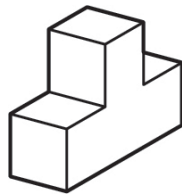
45. Којем од приказаних објеката у аксонометрији одговара дата мрежа?



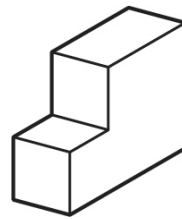
А



Б



В

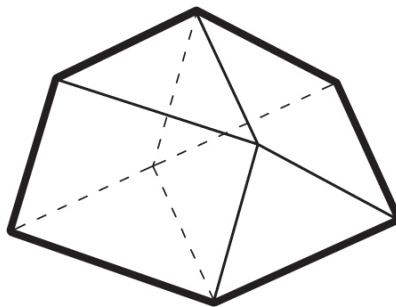


Г


Ниједан од понуђених

Д

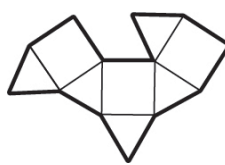
46. Која мрежа одговара датом полиедру?



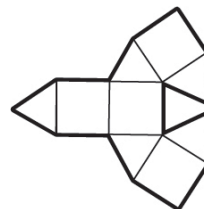
А



Б



В



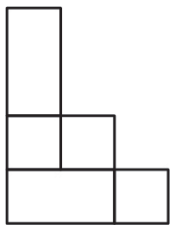
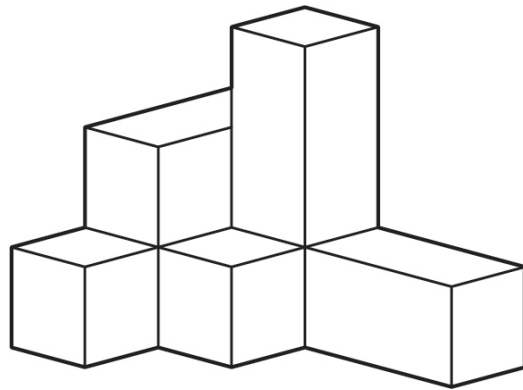
Г

Ниједна од понуђених

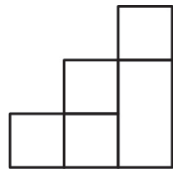
Д



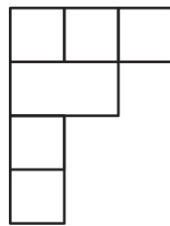
47. Који од приказаних цртежа представља основу (поглед одозго) објекта приказаног у аксонометрији?



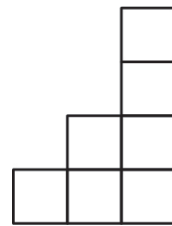
А



Б



В




Г

Ниједан од понуђених

Д

48. Која од понуђених фигура одговара датом скупу?



А



Б



В

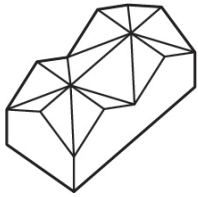
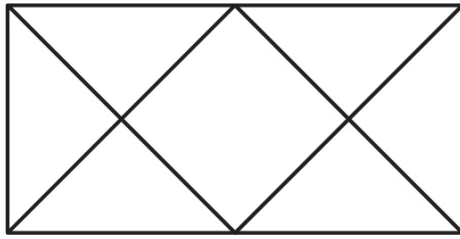


Г

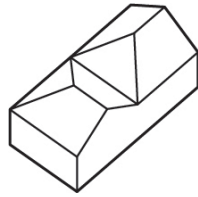


Д

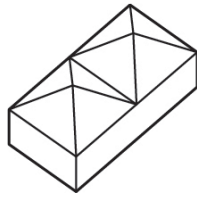
49. Који од објеката приказаних у аксонометрији одговара датој основи (погледу одозго)?



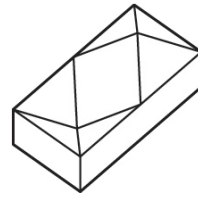
А



Б



В

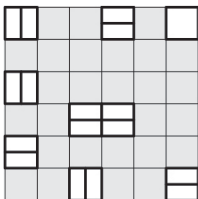
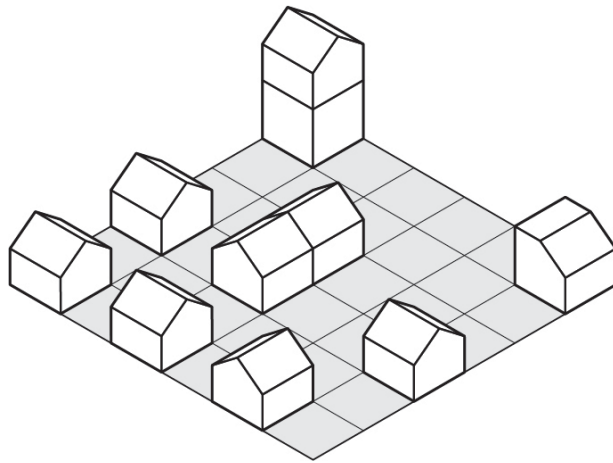


Г

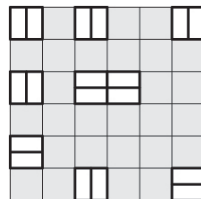
Ниједан од  
понуђених

Д

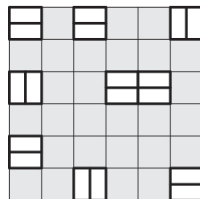
50. Која основа (поглед одозго) одговара објектима приказаним у аксонометрији?



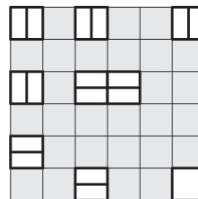
А



Б



В

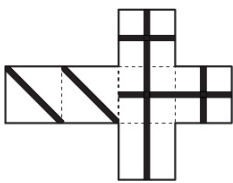



Г

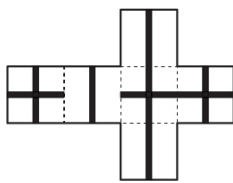
Ниједна од  
понуђених

Д

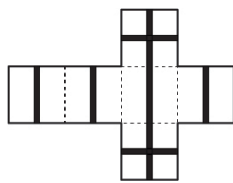
51. Која мрежа одговара коцки приказаној у аксонометрији?



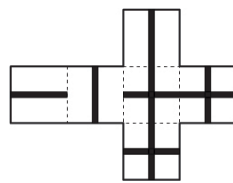
A



Б



В

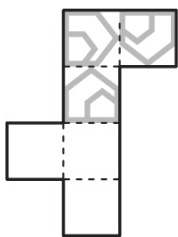
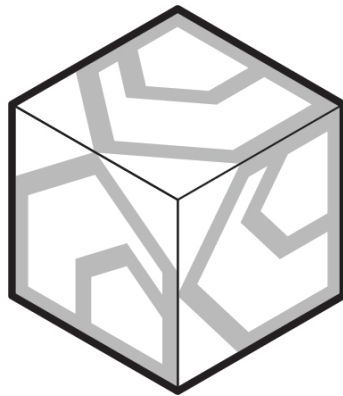


Г

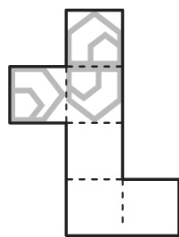
Ниједна од  
понуђених

Д

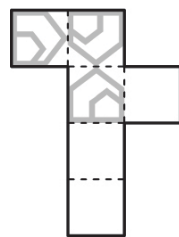
52. Која мрежа одговара коцки приказаној у аксонометрији?



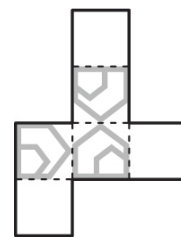
A



Б



В

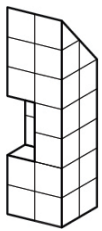


Г

Ниједна од  
понуђених

Д

53. Који од објеката, приказаних из других углова, одговара по структури датом објекту?



A



Б



В




Г


Ниједан од  
понуђених

Д


54. Која просторна структура је идентична објекту приказаном на слици?



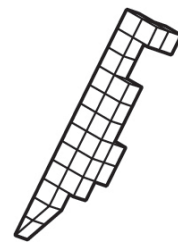
A



Б



В

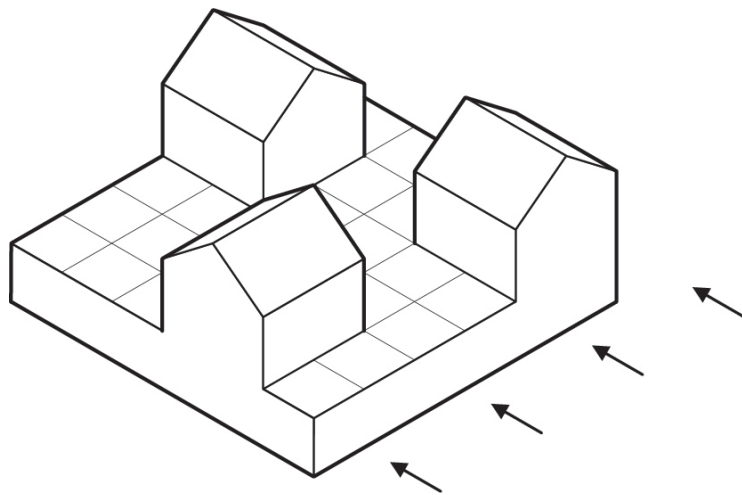


Г

Ниједна од  
понуђених

Д

55. Који изглед (поглед означен стрелицама) одговара објекту приказаном у аксонометрији?



A



Б



В

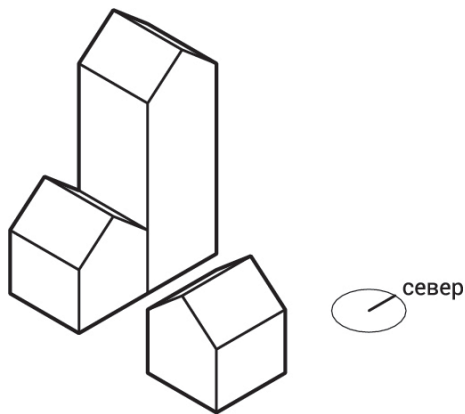


Г

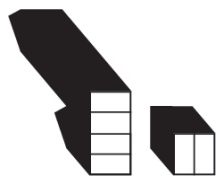
Ниједан од понуђених

Д

56. На слици је дат просторни приказ три објекта. Које од понуђених решења приказује тачну сенку датих објеката?



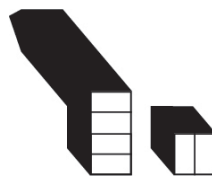
A



Б



В

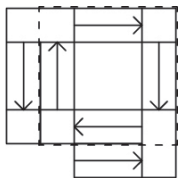
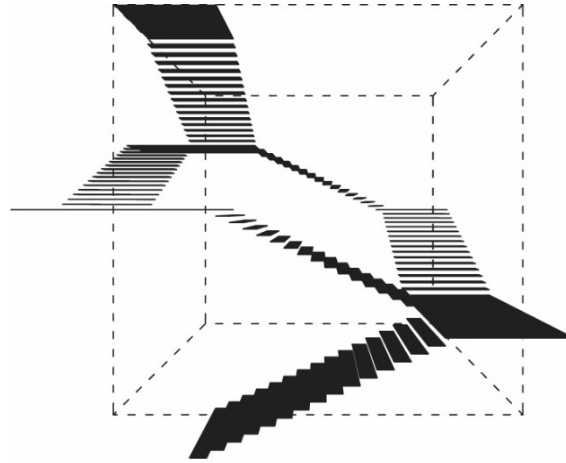


Г

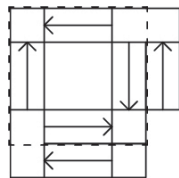
Ниједно од понуђених

Д

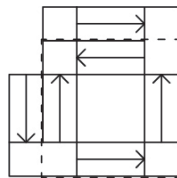
57. На слици је дат перспективни приказ степеништа који се састоји од укупно шест степенишних кракова једнаких односа ширине, дужине и висине, са припадајућим подестима. Висинска разлика савладана једним краком је 250 цм. Степениште је постављено у просторном односу према ивицама коцке. Међу шематским основама (поглед одозго) препознајте приказ дате просторне композиције на којој стрелице правилно означавају правац пењања степеништа.



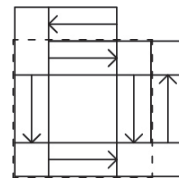
А



Б



В

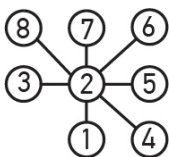
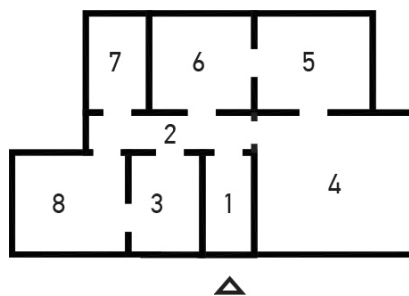


Г

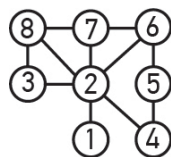
Ниједно од понуђених

Д

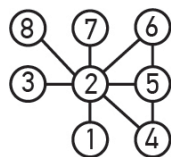
58. На слици је приказана функционална шема апстрактног стамбеног простора. Који од понуђених дијаграма одговара функционалној шеми приказаној на слици?



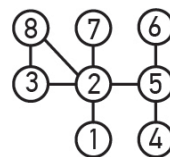
А



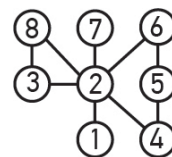
Б



В

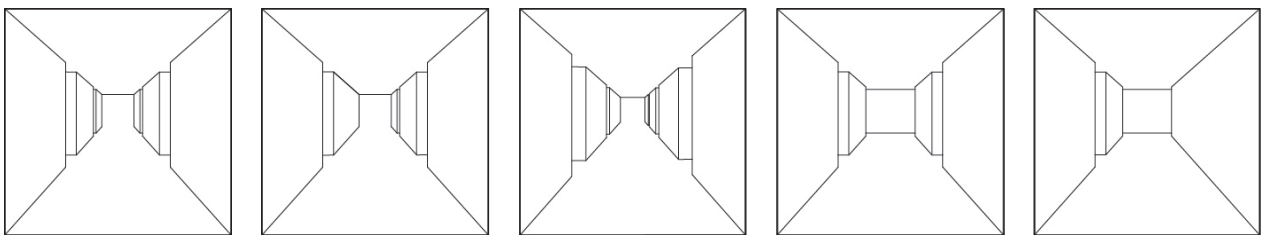
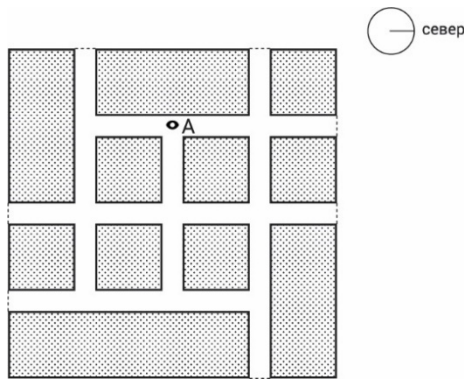


Г



Д

59. На слици је дата основа (поглед одозго) шеме ходника, сваки ходник је ширине и висине 3 метра. Међу понуђеним решењима препознати кадар видљив са висине људског погледа из тачке А усмерен ка истоку.



А

Б

В

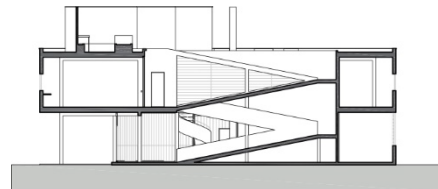
Г

Д

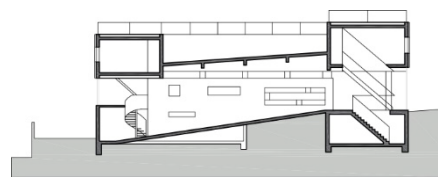
60. Вила Савој швајцарског архитекте Ле Корбизјеа спада у ред најважнијих објеката модернизма. Који од понуђених пресека кроз објекат одговара овој кући?



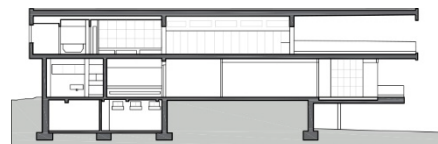
А



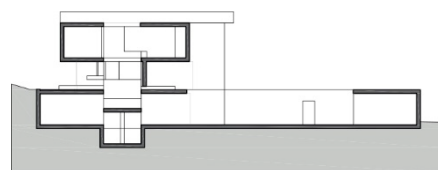
Б



В



Г



Д

Сви понуђени



ЛИСТ ЗА ОДГОВОРЕ

Образац ЛО

	А	Б	В	Г	Д		А	Б	В	Г	Д
1	<input type="checkbox"/>	<input checked="" type="checkbox"/>	<input type="checkbox"/>	<input type="checkbox"/>	<input type="checkbox"/>	31	<input type="checkbox"/>	<input type="checkbox"/>	<input type="checkbox"/>	<input checked="" type="checkbox"/>	<input type="checkbox"/>
2	<input type="checkbox"/>	<input type="checkbox"/>	<input checked="" type="checkbox"/>	<input type="checkbox"/>	<input type="checkbox"/>	32	<input type="checkbox"/>	<input type="checkbox"/>	<input type="checkbox"/>	<input type="checkbox"/>	<input checked="" type="checkbox"/>
3	<input checked="" type="checkbox"/>	<input type="checkbox"/>	<input type="checkbox"/>	<input type="checkbox"/>	<input type="checkbox"/>	33	<input checked="" type="checkbox"/>	<input type="checkbox"/>	<input type="checkbox"/>	<input type="checkbox"/>	<input type="checkbox"/>
4	<input type="checkbox"/>	<input type="checkbox"/>	<input type="checkbox"/>	<input type="checkbox"/>	<input checked="" type="checkbox"/>	34	<input type="checkbox"/>	<input type="checkbox"/>	<input checked="" type="checkbox"/>	<input type="checkbox"/>	<input type="checkbox"/>
5	<input type="checkbox"/>	<input type="checkbox"/>	<input checked="" type="checkbox"/>	<input type="checkbox"/>	<input type="checkbox"/>	35	<input type="checkbox"/>	<input checked="" type="checkbox"/>	<input type="checkbox"/>	<input type="checkbox"/>	<input type="checkbox"/>
6	<input type="checkbox"/>	<input type="checkbox"/>	<input type="checkbox"/>	<input checked="" type="checkbox"/>	<input type="checkbox"/>	36	<input type="checkbox"/>	<input checked="" type="checkbox"/>	<input type="checkbox"/>	<input type="checkbox"/>	<input type="checkbox"/>
7	<input type="checkbox"/>	<input checked="" type="checkbox"/>	<input type="checkbox"/>	<input type="checkbox"/>	<input type="checkbox"/>	37	<input checked="" type="checkbox"/>	<input type="checkbox"/>	<input type="checkbox"/>	<input type="checkbox"/>	<input type="checkbox"/>
8	<input type="checkbox"/>	<input type="checkbox"/>	<input checked="" type="checkbox"/>	<input type="checkbox"/>	<input type="checkbox"/>	38	<input checked="" type="checkbox"/>	<input type="checkbox"/>	<input type="checkbox"/>	<input type="checkbox"/>	<input type="checkbox"/>
9	<input checked="" type="checkbox"/>	<input type="checkbox"/>	<input type="checkbox"/>	<input type="checkbox"/>	<input type="checkbox"/>	39	<input type="checkbox"/>	<input checked="" type="checkbox"/>	<input type="checkbox"/>	<input type="checkbox"/>	<input type="checkbox"/>
10	<input type="checkbox"/>	<input type="checkbox"/>	<input type="checkbox"/>	<input type="checkbox"/>	<input checked="" type="checkbox"/>	40	<input checked="" type="checkbox"/>	<input type="checkbox"/>	<input type="checkbox"/>	<input type="checkbox"/>	<input type="checkbox"/>
11	<input type="checkbox"/>	<input checked="" type="checkbox"/>	<input type="checkbox"/>	<input type="checkbox"/>	<input type="checkbox"/>	41	<input type="checkbox"/>	<input type="checkbox"/>	<input type="checkbox"/>	<input checked="" type="checkbox"/>	<input type="checkbox"/>
12	<input type="checkbox"/>	<input checked="" type="checkbox"/>	<input type="checkbox"/>	<input type="checkbox"/>	<input type="checkbox"/>	42	<input type="checkbox"/>	<input type="checkbox"/>	<input type="checkbox"/>	<input type="checkbox"/>	<input checked="" type="checkbox"/>
13	<input type="checkbox"/>	<input type="checkbox"/>	<input type="checkbox"/>	<input checked="" type="checkbox"/>	<input type="checkbox"/>	43	<input checked="" type="checkbox"/>	<input type="checkbox"/>	<input type="checkbox"/>	<input type="checkbox"/>	<input type="checkbox"/>
14	<input type="checkbox"/>	<input checked="" type="checkbox"/>	<input type="checkbox"/>	<input type="checkbox"/>	<input type="checkbox"/>	44	<input type="checkbox"/>	<input type="checkbox"/>	<input checked="" type="checkbox"/>	<input type="checkbox"/>	<input type="checkbox"/>
15	<input type="checkbox"/>	<input type="checkbox"/>	<input type="checkbox"/>	<input checked="" type="checkbox"/>	<input type="checkbox"/>	45	<input type="checkbox"/>	<input type="checkbox"/>	<input checked="" type="checkbox"/>	<input type="checkbox"/>	<input type="checkbox"/>
16	<input checked="" type="checkbox"/>	<input type="checkbox"/>	<input type="checkbox"/>	<input type="checkbox"/>	<input type="checkbox"/>	46	<input type="checkbox"/>	<input checked="" type="checkbox"/>	<input type="checkbox"/>	<input type="checkbox"/>	<input type="checkbox"/>
17	<input type="checkbox"/>	<input type="checkbox"/>	<input type="checkbox"/>	<input type="checkbox"/>	<input checked="" type="checkbox"/>	47	<input checked="" type="checkbox"/>	<input type="checkbox"/>	<input type="checkbox"/>	<input type="checkbox"/>	<input type="checkbox"/>
18	<input type="checkbox"/>	<input checked="" type="checkbox"/>	<input type="checkbox"/>	<input type="checkbox"/>	<input type="checkbox"/>	48	<input type="checkbox"/>	<input type="checkbox"/>	<input checked="" type="checkbox"/>	<input type="checkbox"/>	<input type="checkbox"/>
19	<input type="checkbox"/>	<input type="checkbox"/>	<input checked="" type="checkbox"/>	<input type="checkbox"/>	<input type="checkbox"/>	49	<input type="checkbox"/>	<input type="checkbox"/>	<input type="checkbox"/>	<input checked="" type="checkbox"/>	<input type="checkbox"/>
20	<input type="checkbox"/>	<input checked="" type="checkbox"/>	<input type="checkbox"/>	<input type="checkbox"/>	<input type="checkbox"/>	50	<input type="checkbox"/>	<input checked="" type="checkbox"/>	<input type="checkbox"/>	<input type="checkbox"/>	<input type="checkbox"/>
21	<input type="checkbox"/>	<input type="checkbox"/>	<input type="checkbox"/>	<input type="checkbox"/>	<input checked="" type="checkbox"/>	51	<input type="checkbox"/>	<input type="checkbox"/>	<input checked="" type="checkbox"/>	<input type="checkbox"/>	<input type="checkbox"/>
22	<input type="checkbox"/>	<input type="checkbox"/>	<input type="checkbox"/>	<input checked="" type="checkbox"/>	<input type="checkbox"/>	52	<input type="checkbox"/>	<input type="checkbox"/>	<input checked="" type="checkbox"/>	<input type="checkbox"/>	<input type="checkbox"/>
23	<input type="checkbox"/>	<input checked="" type="checkbox"/>	<input type="checkbox"/>	<input type="checkbox"/>	<input type="checkbox"/>	53	<input type="checkbox"/>	<input type="checkbox"/>	<input checked="" type="checkbox"/>	<input type="checkbox"/>	<input type="checkbox"/>
24	<input type="checkbox"/>	<input type="checkbox"/>	<input checked="" type="checkbox"/>	<input type="checkbox"/>	<input type="checkbox"/>	54	<input type="checkbox"/>	<input checked="" type="checkbox"/>	<input type="checkbox"/>	<input type="checkbox"/>	<input type="checkbox"/>
25	<input type="checkbox"/>	<input type="checkbox"/>	<input checked="" type="checkbox"/>	<input type="checkbox"/>	<input type="checkbox"/>	55	<input type="checkbox"/>	<input type="checkbox"/>	<input checked="" type="checkbox"/>	<input type="checkbox"/>	<input type="checkbox"/>
26	<input type="checkbox"/>	<input type="checkbox"/>	<input type="checkbox"/>	<input checked="" type="checkbox"/>	<input type="checkbox"/>	56	<input checked="" type="checkbox"/>	<input type="checkbox"/>	<input type="checkbox"/>	<input type="checkbox"/>	<input type="checkbox"/>
27	<input type="checkbox"/>	<input type="checkbox"/>	<input type="checkbox"/>	<input type="checkbox"/>	<input checked="" type="checkbox"/>	57	<input type="checkbox"/>	<input type="checkbox"/>	<input checked="" type="checkbox"/>	<input type="checkbox"/>	<input type="checkbox"/>
28	<input checked="" type="checkbox"/>	<input type="checkbox"/>	<input type="checkbox"/>	<input type="checkbox"/>	<input type="checkbox"/>	58	<input type="checkbox"/>	<input type="checkbox"/>	<input type="checkbox"/>	<input type="checkbox"/>	<input checked="" type="checkbox"/>
29	<input type="checkbox"/>	<input type="checkbox"/>	<input type="checkbox"/>	<input checked="" type="checkbox"/>	<input type="checkbox"/>	59	<input type="checkbox"/>	<input type="checkbox"/>	<input type="checkbox"/>	<input checked="" type="checkbox"/>	<input type="checkbox"/>
30	<input type="checkbox"/>	<input checked="" type="checkbox"/>	<input type="checkbox"/>	<input type="checkbox"/>	<input type="checkbox"/>	60	<input checked="" type="checkbox"/>	<input type="checkbox"/>	<input type="checkbox"/>	<input type="checkbox"/>	<input type="checkbox"/>