

УНИВЕРЗИТЕТ У НИШУ
ГРАЂЕВИНСКО
АРХИТЕКТОНСКИ
ФАКУЛТЕТ



Студијски програм ИАС АРХИТЕКТУРА
П Р И Ј Е М Н И И С П И Т 2 0 1 9

**ТЕСТ ОПШТЕ КУЛТУРЕ И
ОБРАЗОВАЊА,
СА ЕЛЕМЕНТИМА
ТЕСТА ПРОСТОРНЕ ИНТЕЛИГЕНЦИЈЕ**

НИШ, 25.јун 2019. године

УПУТСТВО ЗА КАНДИДАТЕ О НАЧИНУ ПОЛАГАЊА ПРИЈЕМНОГ ИСПИТА

- Кандидат који приступа полагању пријемног испита дужан је да код себе има важећу личну карту или важећи пасош. Кандидати који приступају полагању испита са пасошем, дужни су да додатно имају и други документ, у коме ће се налазити јединствени матични број грађана (ЈМБГ).
- Кандидат је дужан да седне на одређено место, на које га упућује дежурни. Кандидат на своје место може да понесе само важећи документ за идентификацију, хемијску оловку плаве боје и флашицу воде.
- Кандидат мора, на захтев, показати важећу личну карту, односно пасош.
- По завршетку идентификације, лична карта, односно пасош остаје на столу до завршетка испита.
- Испит је писмени, у облику теста и траје 2 (два) сата.
- Свеску са питањима за израду теста кандидат добија од дежурног. На крају свеске (последњи лист) налази се **лист за одговоре** (у даљем тексту: **ЛО**). Све одговоре на питања кандидати дају искључиво у **ЛО** обрасцу!
- У **ЛО**-у се хемијском оловком плаве боје обележавају само тачни одговори прецртавањем одговарајућих поља. Пример обележавања тачних одговора приказан је на следећој слици!

ОДГОВОРИ:					
	А	Б	В	Г	Д
1	<input type="checkbox"/>	<input checked="" type="checkbox"/>	<input type="checkbox"/>	<input type="checkbox"/>	<input type="checkbox"/>
2	<input type="checkbox"/>	<input type="checkbox"/>	<input type="checkbox"/>	<input checked="" type="checkbox"/>	<input type="checkbox"/>
3	<input type="checkbox"/>	<input type="checkbox"/>	<input checked="" type="checkbox"/>	<input type="checkbox"/>	<input type="checkbox"/>
4	<input type="checkbox"/>	<input type="checkbox"/>	<input checked="" type="checkbox"/>	<input type="checkbox"/>	<input type="checkbox"/>
5	<input type="checkbox"/>	<input type="checkbox"/>	<input type="checkbox"/>	<input type="checkbox"/>	<input checked="" type="checkbox"/>
6	<input checked="" type="checkbox"/>	<input type="checkbox"/>	<input type="checkbox"/>	<input type="checkbox"/>	<input type="checkbox"/>
7	<input type="checkbox"/>	<input checked="" type="checkbox"/>	<input type="checkbox"/>	<input type="checkbox"/>	<input type="checkbox"/>
8	<input type="checkbox"/>	<input type="checkbox"/>	<input type="checkbox"/>	<input checked="" type="checkbox"/>	<input type="checkbox"/>
9	<input type="checkbox"/>	<input type="checkbox"/>	<input checked="" type="checkbox"/>	<input type="checkbox"/>	<input type="checkbox"/>
10	<input type="checkbox"/>	<input type="checkbox"/>	<input type="checkbox"/>	<input type="checkbox"/>	<input checked="" type="checkbox"/>

Слика 1. Део обрасца **ЛО**.

Правилно обележавање тачних одговора прецртавањем одговарајућих поља:

*вертикално – редни број питања;

*хоризонтално – понуђени одговори.

- Кандидат прецртава поље само једног од понуђених одговора у ЛО-у, под бројем који одговара редном броју тог питања.
- Сваки тест има 60 питања и сваки тачан одговор се бодује једним бодом.
- На пријемном испиту се може освојити максимално 60 бодова.
- Упозоравају се кандидати да **ЛО** образац попуњавају врло пажљиво.
- За свако питање понуђено је 5 (пет) одговора, од којих је само један тачан. Одговарајуће обележавање тачног одговора доноси један бод.
- Обележавање нетачног одговора, необележавање одговора, као и обележавање више одговора у оквиру истог питања доноси нула (0) бодова.
- На **ЛО**-у није дозвољено брисање или исправљање већ обележених-одговора.
- Најстрожије је забрањено потписивање или било какво друго обележавање **ЛО**-а. Кандидат који на било који начин додатно означи **ЛО**, биће дисквалификован.
- Од тренутка поделе тестова није дозвољен никакав разговор између кандидата. На испиту је строго забрањено коришћење било каквих додатних помагала (џепни рачунар, мобилни телефон, таблет, слушалице и друга информационо-комуникациона средства, лењир, цедуљице и сл.). У току полагања пријемног испита, кандидати не смеју имати код себе мобилне телефоне.
- Дежурни не могу давати никакве информације о задацима. Није дозвољен разговор између кандидата и дежурног.
- Из коверте коју сте добили извадите цедуљу и на њој штампаним словима упишите: **презиме, име једног од родитеља (са пријаве), име и редни број пријаве.**
- Предаје се само лист са одговорима и коверта са попуњеном цедуљом.
- Приликом предаје листа са одговорима (образац **ЛО**) коверта мора бити затворена и причвршћена за лист са одговорима.

Пријемни испит почиње у 10,00 часова и траје до 12,00 часова.

Молимо Вас да се приликом полагања пријемног испита придржавате наведених упутстава. Непоштовање неког од наведених правила повлачи за собом дисквалификацију кандидата без обзира на претходно освојене поене!

Свим кандидатима желимо много успеха на испиту!

Студијски програм ИАС АРХИТЕКТУРА
ПРИЈЕМНИ ИСПИТ 2019

ПИТАЊА

1. Маузолеј је:

- А тврђава
- Б објекат за заштиту статуа и рељефа
- В монументална гробница намењена слављењу умрлог
- Г погребна скулптура
- Д праисторијски споменик религиозне функције

2. Конструктивизам као правац у архитектури је настао у:

- А Сједињеним Америчким Државама
- Б Совјетском Савезу
- В Француској
- Г Немачкој
- Д Италији

3. Синоним за филанторпа је :

- А хомофоб
- Б конформиста
- В алтруиста
- Г егоиста
- Д песимиста

4. Бомбардована зграда Генералштаба у Београду је дело познатог архитекте:

- А Ранка Радовића
- Б Богдана Богдановића
- В Ивана Антића
- Г Николе Добровића
- Д Бранимира Митровића

5. Који је главни град Индије:

- А Калкута
- Б Мадрас
- В Мумбај
- Г Њу Делхи
- Д Ченаи

6. Супротно од ерудиције је:

- А академски
- Б неукост
- В непрецизност
- Г образованост
- Д невоспитање

7. Профана архитектура је термин за тип грађевина којем припадају:

- А тумулуси
- Б храмови
- В палате
- Г маузолеји
- Д некрополе

8. Када је Валтер Гропијус основао Баухаус у Немачкој:

- А почетком XVII века
- Б почетком XVIII века
- В почетком XIX века
- Г почетком XX века
- Д почетком XXI века

9. Стефан Миленковић је познати српски:

- А лекар
- Б виолиниста
- В сликар
- Г астроном
- Д пијаниста

10. Розета је:

- А кружни прозор на готичким катедралама
- Б стилски ред у античкој Грчкој
- В горњи део стуба
- Г стил у сликарству
- Д завршни део крова

11. Оснивач листа „Политика“ била је породица:

- А Рибникар
- Б Гарашанин
- В Хаџи Антонијевић
- Г Рибар
- Д Барух

12. Душан Ковачевић је:

- А песник
- Б сценариста
- В режисер
- Г драмски писац
- Д критичар

13. Црква Богородице Љевишке се налази у:

- А Приштини
- Б Призрену
- В Косовској Митровици
- Г Новом Пазару
- Д Пећи

14. Дифузно осветљење у објекту карактеристично је за његову оријентацију ка:

- А југу
- Б северу
- В истоку
- Г западу
- Д југо-западу

15. Израз „чамовина“ се односи на грађевинско дрво од:

- А храста
- Б брезе
- В јеле и смрче
- Г букве
- Д врбе

16. Познати архитекта, оснивач групе „MORPHOSIS“:

- А Рем Колхас
- Б Бјарке Ингелс
- В Том Мејн
- Г Вини Мас
- Д Ренцо Пиано

17. Колико је жена добитница Прицкерове награде за архитектуру укупно (самосталино или у групи), од успостављања награде 1979. године до данас:

- А 1
- Б 2
- В 3
- Г 4
- Д 5

18. Добитник Прицкерове награде за архитектуру у 2019. години је:

- А Тојо Ито
- Б Алехандро Аравена
- В Ванг Шу
- Г Арата Исозаки
- Д Балкришна Доши

19. Да капацитет неког дигиталног медија не би изражавали користећи милијарде, додајемо префикс:

- А мега
- Б гига
- В тера
- Г окта
- Д кило

20. Димензије олимпијског базена износе:

- А 40x25 м
- Б 30x25 м
- В 60x25 м
- Г 50x25 м
- Д 50x50 м

21. У архитектури се Интернационални стил поистовећује са:

- А конструктивизмом
- Б класицизмом
- В авангардним покретом
- Г бароком
- Д модерном

22. Најмања планета Сунчевог система је:

- А Марс
- Б Јупитер
- В Меркур
- Г Венера
- Д Нептун

23. Који број треба да настави низ: 4, 7, 16, 43 ... ?

- А 70
- Б 106
- В 111
- Г 124
- Д 127

24. Колико један квадратни метар има хектара?


- А 10^2
- Б 10^4
- В 10^6
- Г 10^{-4}
- Д 10^{-2}

25. Колико је 45% од 120:

- А 45
- Б 48
- В 50
- Г 54
- Д 66

26. ЛЕГО модел на слици урађен је према делу архитекте:

- А Ле Корбизје
- Б Френк Лојд Рајт
- В Лудвиг Мис ван дер Рое
- Г Алвар Алто
- Д Норман Фостер



27. Препознати грађевину на слици:

- А Музеј Југославије
- Б Музеј савремене уметности у Београду
- В Палата Србија
- Г Библиотека Града Београда
- Д Етнографски музеј у Београду



28. Музеј Орсеј се налази у:

- А Паризу
- Б Риму
- В Бечу
- Г Њујорку
- Д Берлину



29. „One Central Park“ зграда се налази у:

- А Ротердаму
- Б Сиднеју
- В Даблину
- Г Лондону
- Д Москви



30. Препознати грађевину на слици:

- А Манастир Манасија
- Б Смедеревска тврђава
- В Голубачка тврђава
- Г Београдска тврђава
- Д Хиландар




31. Препознати грађевину на слици:

- А Музеј Прадо у Мадриду
- Б Уфици музеј у Фиренци
- В Миланска катедрала
- Г Париска опера
- Д Бундестаг у Берлину



32. Препознати грађевину на слици:

- А Харбин опера
- Б Хајдар Алијев центар у Бакуу
- В Erple Campus у Калифорнији
- Г Библиотека у Сјетлу
- Д Музеј Лувр у Абу Дабију



33. Ко је аутор грађевине на слици:

- А „UN Studio“
- Б „MVRDV“
- В „BIG“
- Г „MORPHOSIS“
- Д „SANAA“



34. Препознати град на слици:

- А Дубаи
- Б Сиднеј
- В Сингапур
- Г Пекинг
- Д Москва



35. Препознати грађевину на слици:

- А „Marina Bay Sands“ хотел
- Б „Casa da Musica“ у Порту
- В Музеј уметности XXI века – „МАХХИ“ у Риму
- Г „8 House“ у Копенхагену
- Д „Markthal“ у Ротердаму



36. Скулптура Мале сирене је симбол:

- А Ротердама
- Б Стохолма
- В Осла
- Г Копенхагена
- Д Даблина

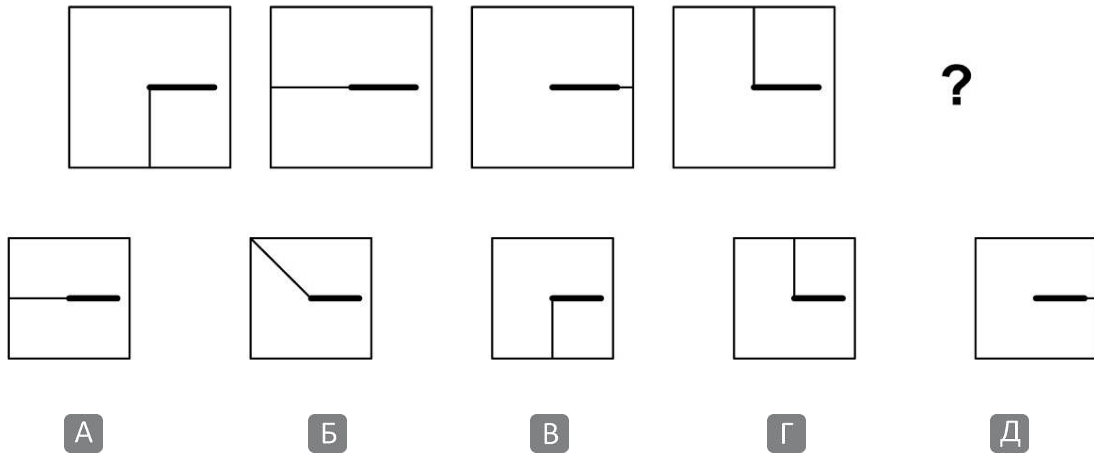


37. Шпански трг се налази у:

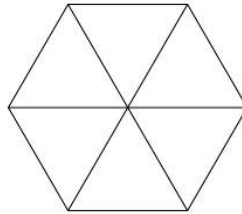
- А Фиренци
- Б Болоњи
- В Риму
- Г Милану
- Д Венецији



38. Одредити следећу фигуру задатог низа:

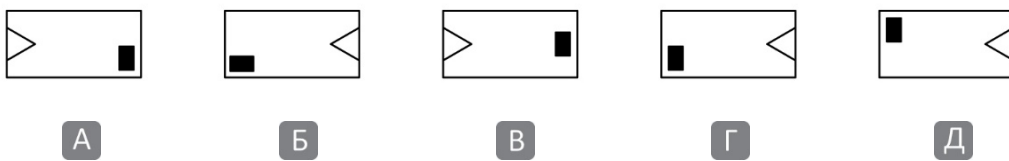
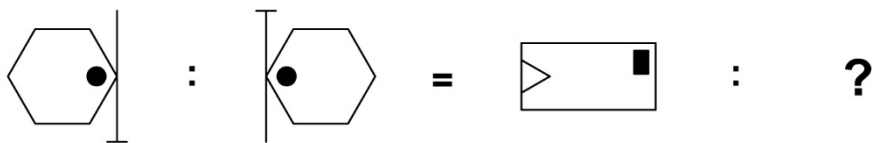


39. Колико четвороуглова постоји у шестоуглу са слике?




- А осам
- Б десет
- В дванаест
- Г четрнаест
- Д шеснаест

40. Означити одговарајућу фигуру:



41. Колико има квадрата чија су темена у тачкама дате квадратне мреже:



А 8

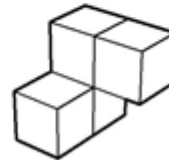
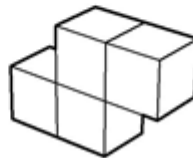
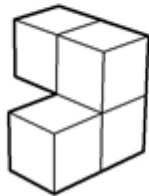
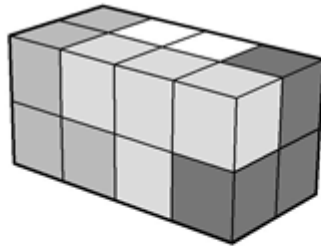
Б 5

В 4

Г 7

Д 6

42. Квадар је састављен од четири дела, као што је приказано на слици. Сваки је обојен једном бојом и састоји се од четири коцке. Кој је облика бели део?



А

Б

В

Г

Д Ниједна од понуђених

43. Пронаћи фигуру која не припада датом скупу:



А

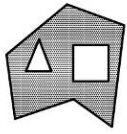
Б

В

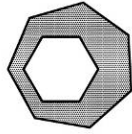
Г

Д

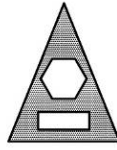
44. Пронаћи фигуру која не припада датом скупу:



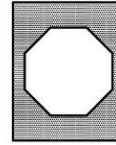
A




Б



В

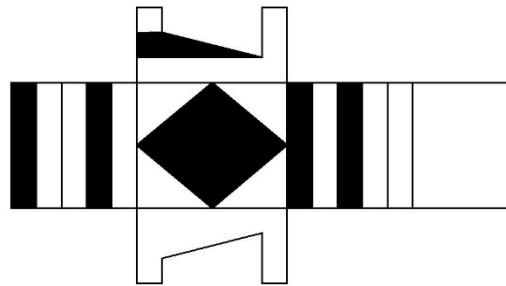


Г

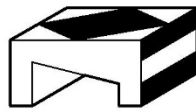


Д

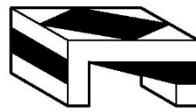
45. Која форма може да се добије склапањем дате мреже?



A



Б




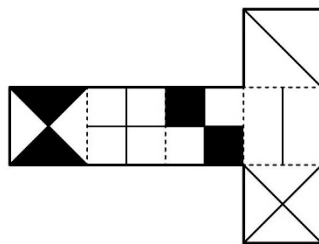
В




Г

Д Ниједна од понуђених


46. Која коцка може да се добије склапањем дате мреже?



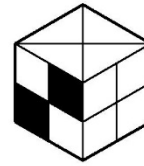
A



Б




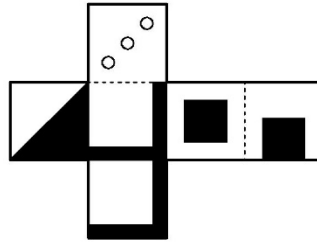
В



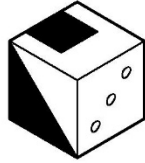
Г

Д Ниједна од понуђених

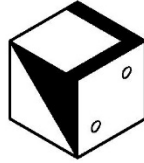
47. Која коцка не може да се добије склапањем дате мреже?



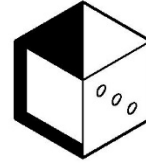
А



Б



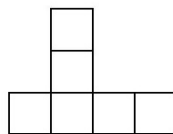
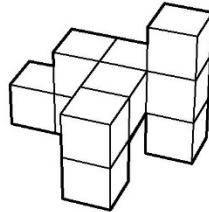
В



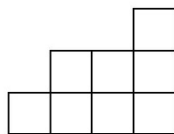
Г

Д Свака од понуђених

48. Идентификовати цртеж основе (поглед одозго) перспективног приказа задате композиције.

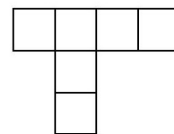


А
Ниједна
од понуђених

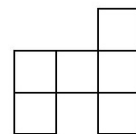


Б

В

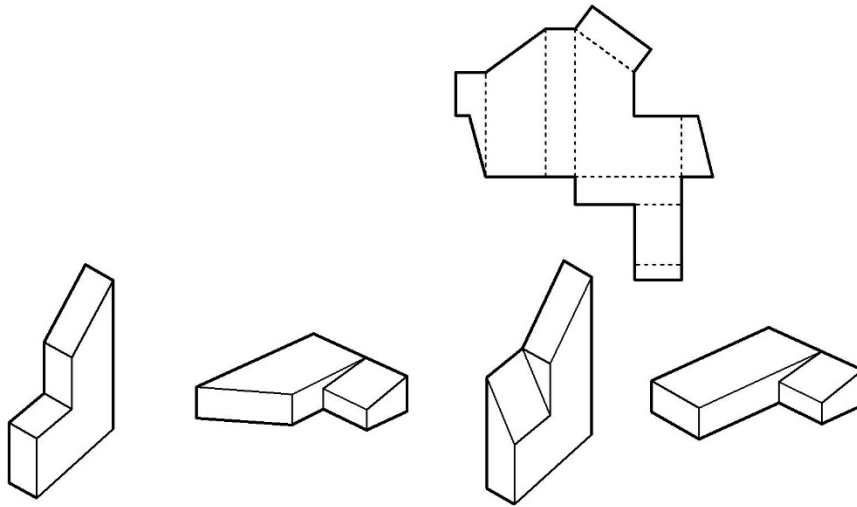


Г



Д

49. Која форма може да се добије склапањем дате мреже?



A

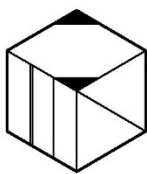
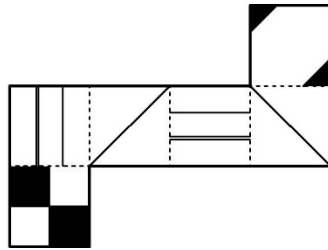
Б

В

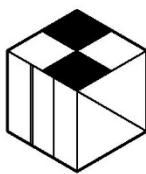
Г

Д Ниједна од понуђених

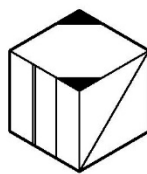
50. Која коцка може да се добије склапањем дате мреже?



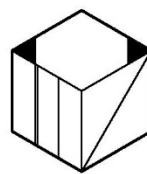
A



Б




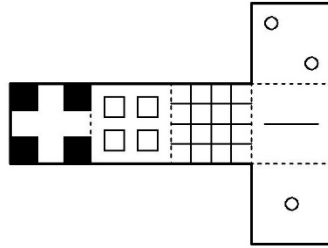
В



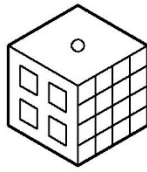
Г

Д Ниједна од понуђених


51. Која коцка може да се добије склапањем дате мреже?




A



Б



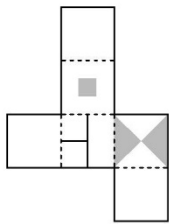
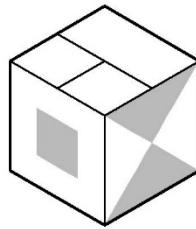
В



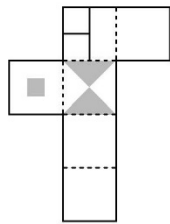
Г

Д Ниједна од понуђених

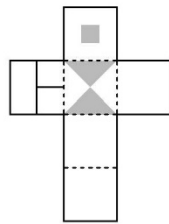
52. Која мрежа одговара датој коцки?



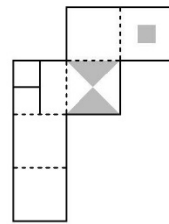
A



Б



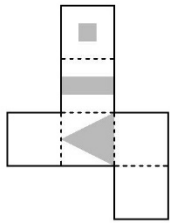
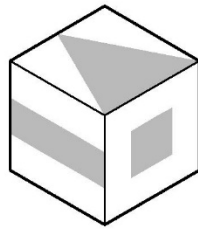
В



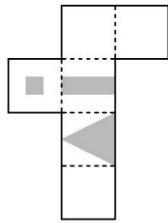
Г

Д Ниједна од понуђених

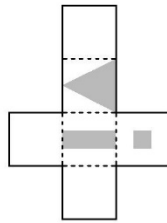
53. Која мрежа одговара датој коцки?



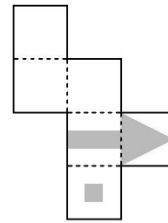
A



Б



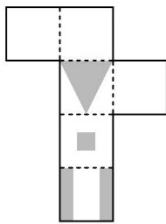
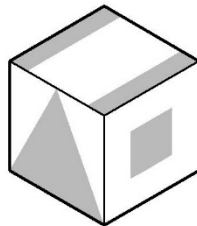
В



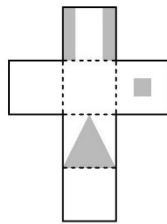
Г

Д Ниједна од понуђених

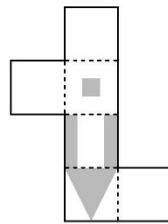
54. Која мрежа одговара датој коцки?



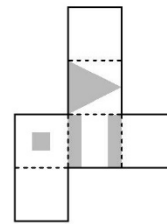
A



Б



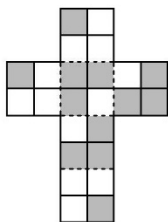
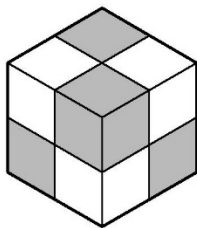
В



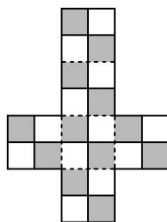
Г

Д Ниједна од понуђених

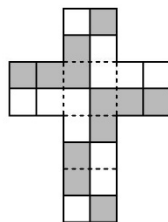
55. Која мрежа одговара датој коцки?



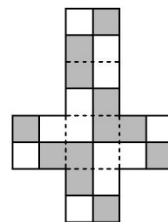
A



Б



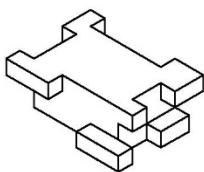
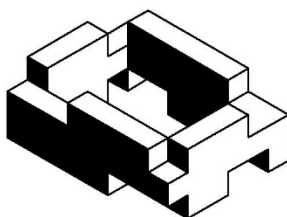
В



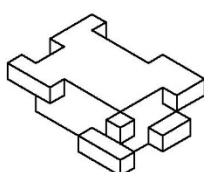
Г

Д Ниједна од понуђених

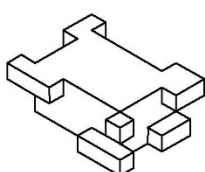
56. На слици је приказан објекат у блоку. Понуђена су решења негатива који са овим објектом гради пун квадар. Који негатив са објектом гради пун квадар?



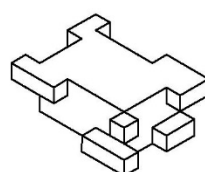
A



Б



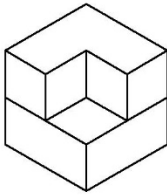
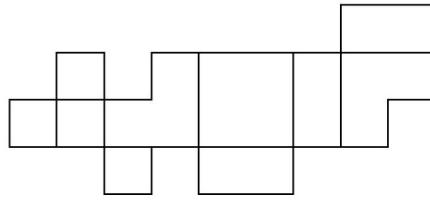
В



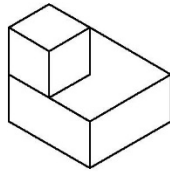
Г

Д Ниједан од понуђених

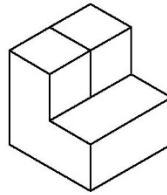
57. Која форма може да се добије склапањем дате мреже?



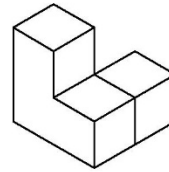
A



Б



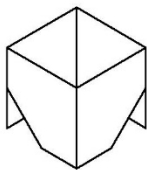
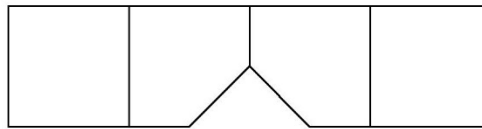
В



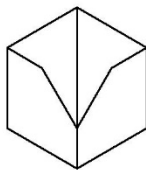
Г

Д Ниједна од понуђених

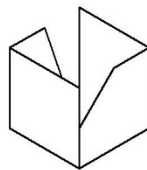
58. Која форма може да се добије склапањем дате мреже?



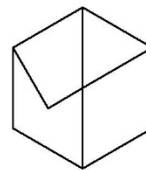
A



Б




В



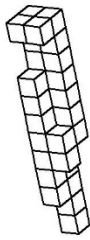
Г

Д Ниједна од понуђених

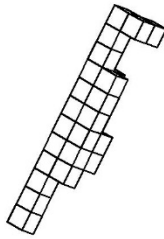
59. На слици је приказан објекат куле који се састоји из модуларних елемената (коцки). Понуђена су решења просторних структура састављених од идентичних модуларних елемената, ротираних и приказаних из различитих углова. Која просторна структура је идентична објекту куле приказане на слици?




А



Б



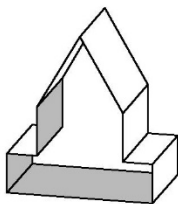
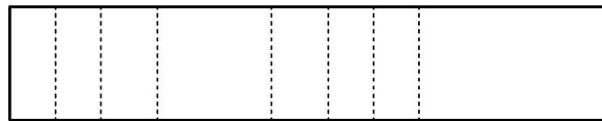
В



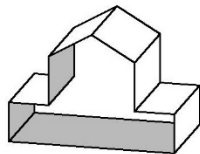
Г

Д Ниједна од понуђених

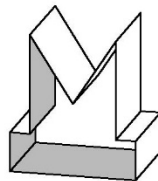
60. Која форма може да се добије склапањем дате мреже?



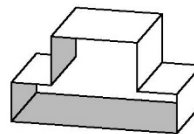
А



Б



В



Г

Д Ниједна од понуђених

ЛИСТ ЗА ОДГОВОРЕ

Образац ЛО

ОДГОВОРИ:											
	А	Б	В	Г	Д		А	Б	В	Г	Д
1	<input type="checkbox"/>	<input type="checkbox"/>	<input type="checkbox"/>	<input type="checkbox"/>	<input type="checkbox"/>	31	<input type="checkbox"/>	<input type="checkbox"/>	<input type="checkbox"/>	<input type="checkbox"/>	<input type="checkbox"/>
2	<input type="checkbox"/>	<input type="checkbox"/>	<input type="checkbox"/>	<input type="checkbox"/>	<input type="checkbox"/>	32	<input type="checkbox"/>	<input type="checkbox"/>	<input type="checkbox"/>	<input type="checkbox"/>	<input type="checkbox"/>
3	<input type="checkbox"/>	<input type="checkbox"/>	<input type="checkbox"/>	<input type="checkbox"/>	<input type="checkbox"/>	33	<input type="checkbox"/>	<input type="checkbox"/>	<input type="checkbox"/>	<input type="checkbox"/>	<input type="checkbox"/>
4	<input type="checkbox"/>	<input type="checkbox"/>	<input type="checkbox"/>	<input type="checkbox"/>	<input type="checkbox"/>	34	<input type="checkbox"/>	<input type="checkbox"/>	<input type="checkbox"/>	<input type="checkbox"/>	<input type="checkbox"/>
5	<input type="checkbox"/>	<input type="checkbox"/>	<input type="checkbox"/>	<input type="checkbox"/>	<input type="checkbox"/>	35	<input type="checkbox"/>	<input type="checkbox"/>	<input type="checkbox"/>	<input type="checkbox"/>	<input type="checkbox"/>
6	<input type="checkbox"/>	<input type="checkbox"/>	<input type="checkbox"/>	<input type="checkbox"/>	<input type="checkbox"/>	36	<input type="checkbox"/>	<input type="checkbox"/>	<input type="checkbox"/>	<input type="checkbox"/>	<input type="checkbox"/>
7	<input type="checkbox"/>	<input type="checkbox"/>	<input type="checkbox"/>	<input type="checkbox"/>	<input type="checkbox"/>	37	<input type="checkbox"/>	<input type="checkbox"/>	<input type="checkbox"/>	<input type="checkbox"/>	<input type="checkbox"/>
8	<input type="checkbox"/>	<input type="checkbox"/>	<input type="checkbox"/>	<input type="checkbox"/>	<input type="checkbox"/>	38	<input type="checkbox"/>	<input type="checkbox"/>	<input type="checkbox"/>	<input type="checkbox"/>	<input type="checkbox"/>
9	<input type="checkbox"/>	<input type="checkbox"/>	<input type="checkbox"/>	<input type="checkbox"/>	<input type="checkbox"/>	39	<input type="checkbox"/>	<input type="checkbox"/>	<input type="checkbox"/>	<input type="checkbox"/>	<input type="checkbox"/>
10	<input type="checkbox"/>	<input type="checkbox"/>	<input type="checkbox"/>	<input type="checkbox"/>	<input type="checkbox"/>	40	<input type="checkbox"/>	<input type="checkbox"/>	<input type="checkbox"/>	<input type="checkbox"/>	<input type="checkbox"/>
11	<input type="checkbox"/>	<input type="checkbox"/>	<input type="checkbox"/>	<input type="checkbox"/>	<input type="checkbox"/>	41	<input type="checkbox"/>	<input type="checkbox"/>	<input type="checkbox"/>	<input type="checkbox"/>	<input type="checkbox"/>
12	<input type="checkbox"/>	<input type="checkbox"/>	<input type="checkbox"/>	<input type="checkbox"/>	<input type="checkbox"/>	42	<input type="checkbox"/>	<input type="checkbox"/>	<input type="checkbox"/>	<input type="checkbox"/>	<input type="checkbox"/>
13	<input type="checkbox"/>	<input type="checkbox"/>	<input type="checkbox"/>	<input type="checkbox"/>	<input type="checkbox"/>	43	<input type="checkbox"/>	<input type="checkbox"/>	<input type="checkbox"/>	<input type="checkbox"/>	<input type="checkbox"/>
14	<input type="checkbox"/>	<input type="checkbox"/>	<input type="checkbox"/>	<input type="checkbox"/>	<input type="checkbox"/>	44	<input type="checkbox"/>	<input type="checkbox"/>	<input type="checkbox"/>	<input type="checkbox"/>	<input type="checkbox"/>
15	<input type="checkbox"/>	<input type="checkbox"/>	<input type="checkbox"/>	<input type="checkbox"/>	<input type="checkbox"/>	45	<input type="checkbox"/>	<input type="checkbox"/>	<input type="checkbox"/>	<input type="checkbox"/>	<input type="checkbox"/>
16	<input type="checkbox"/>	<input type="checkbox"/>	<input type="checkbox"/>	<input type="checkbox"/>	<input type="checkbox"/>	46	<input type="checkbox"/>	<input type="checkbox"/>	<input type="checkbox"/>	<input type="checkbox"/>	<input type="checkbox"/>
17	<input type="checkbox"/>	<input type="checkbox"/>	<input type="checkbox"/>	<input type="checkbox"/>	<input type="checkbox"/>	47	<input type="checkbox"/>	<input type="checkbox"/>	<input type="checkbox"/>	<input type="checkbox"/>	<input type="checkbox"/>
18	<input type="checkbox"/>	<input type="checkbox"/>	<input type="checkbox"/>	<input type="checkbox"/>	<input type="checkbox"/>	48	<input type="checkbox"/>	<input type="checkbox"/>	<input type="checkbox"/>	<input type="checkbox"/>	<input type="checkbox"/>
19	<input type="checkbox"/>	<input type="checkbox"/>	<input type="checkbox"/>	<input type="checkbox"/>	<input type="checkbox"/>	49	<input type="checkbox"/>	<input type="checkbox"/>	<input type="checkbox"/>	<input type="checkbox"/>	<input type="checkbox"/>
20	<input type="checkbox"/>	<input type="checkbox"/>	<input type="checkbox"/>	<input type="checkbox"/>	<input type="checkbox"/>	50	<input type="checkbox"/>	<input type="checkbox"/>	<input type="checkbox"/>	<input type="checkbox"/>	<input type="checkbox"/>
21	<input type="checkbox"/>	<input type="checkbox"/>	<input type="checkbox"/>	<input type="checkbox"/>	<input type="checkbox"/>	51	<input type="checkbox"/>	<input type="checkbox"/>	<input type="checkbox"/>	<input type="checkbox"/>	<input type="checkbox"/>
22	<input type="checkbox"/>	<input type="checkbox"/>	<input type="checkbox"/>	<input type="checkbox"/>	<input type="checkbox"/>	52	<input type="checkbox"/>	<input type="checkbox"/>	<input type="checkbox"/>	<input type="checkbox"/>	<input type="checkbox"/>
23	<input type="checkbox"/>	<input type="checkbox"/>	<input type="checkbox"/>	<input type="checkbox"/>	<input type="checkbox"/>	53	<input type="checkbox"/>	<input type="checkbox"/>	<input type="checkbox"/>	<input type="checkbox"/>	<input type="checkbox"/>
24	<input type="checkbox"/>	<input type="checkbox"/>	<input type="checkbox"/>	<input type="checkbox"/>	<input type="checkbox"/>	54	<input type="checkbox"/>	<input type="checkbox"/>	<input type="checkbox"/>	<input type="checkbox"/>	<input type="checkbox"/>
25	<input type="checkbox"/>	<input type="checkbox"/>	<input type="checkbox"/>	<input type="checkbox"/>	<input type="checkbox"/>	55	<input type="checkbox"/>	<input type="checkbox"/>	<input type="checkbox"/>	<input type="checkbox"/>	<input type="checkbox"/>
26	<input type="checkbox"/>	<input type="checkbox"/>	<input type="checkbox"/>	<input type="checkbox"/>	<input type="checkbox"/>	56	<input type="checkbox"/>	<input type="checkbox"/>	<input type="checkbox"/>	<input type="checkbox"/>	<input type="checkbox"/>
27	<input type="checkbox"/>	<input type="checkbox"/>	<input type="checkbox"/>	<input type="checkbox"/>	<input type="checkbox"/>	57	<input type="checkbox"/>	<input type="checkbox"/>	<input type="checkbox"/>	<input type="checkbox"/>	<input type="checkbox"/>
28	<input type="checkbox"/>	<input type="checkbox"/>	<input type="checkbox"/>	<input type="checkbox"/>	<input type="checkbox"/>	58	<input type="checkbox"/>	<input type="checkbox"/>	<input type="checkbox"/>	<input type="checkbox"/>	<input type="checkbox"/>
29	<input type="checkbox"/>	<input type="checkbox"/>	<input type="checkbox"/>	<input type="checkbox"/>	<input type="checkbox"/>	59	<input type="checkbox"/>	<input type="checkbox"/>	<input type="checkbox"/>	<input type="checkbox"/>	<input type="checkbox"/>
30	<input type="checkbox"/>	<input type="checkbox"/>	<input type="checkbox"/>	<input type="checkbox"/>	<input type="checkbox"/>	60	<input type="checkbox"/>	<input type="checkbox"/>	<input type="checkbox"/>	<input type="checkbox"/>	<input type="checkbox"/>